



扫码答题
只能用展鸿教育

APP扫码

一、常识判断

根据题目要求，在四个选项中选出一个最恰当的答案。

1. 党中央认为，必须坚持不懈把解决好“三农”问题作为全党工作重中之重，举全党全社会之力全面推进乡村振兴，加快农业农村现代化。对此，下列各地做法有助于推动乡村产业高质量发展的是（ ）。

- ①甲地加快完善县乡村电子商务和快递物流配送体系，建设县域集采集配中心
- ②乙地完善农产品流通骨干网络，改造提升产地、集散地、销地批发市场，布局建设一批城郊大仓基地
- ③丙地深入实施“数商兴农”和“互联网+”农产品出村进城工程，鼓励发展农产品电商直采、定制生产等模式
- ④丁地引导技术密集型产业向中西部地区、向县域梯度转移，支持大中城市在周边县域布局关联产业和配套企业

- A. ①②④ B. ①③④ C. ①②③ D. ②③④

2. 中国式现代化，是中国共产党领导的社会主义现代化，既有各国现代化的共同特点，更有基于自己国情的中国特色。下列关于中国式现代化的说法中，有误的一项是（ ）。

- A. 中国式现代化在进程上保持整体一贯性和延续性
- B. 中国式现代化是全体人民同步富裕的现代化
- C. 中国式现代化同时创造了经济快速发展和社会长期稳定两大奇迹
- D. 中国式现代化是人与自然和谐共生的现代化

3. 税费优惠政策在增加就业、鼓励研发、促进投资、提升价值等方面有积极作用。2022年，全国新增减税降费及退税缓税缓费超4.2万亿元。下列有关我国税费政策的说法正确的有（ ）个。

- ①阶段性措施和制度性安排相结合
- ②既有税率式优惠，又有税基式优惠
- ③着力点之一是解决市场失灵，用税费优惠政策去弥补负外部性所产生的成本

- A. 0 B. 1 C. 2 D. 3

4. 2023年2月，中共中央、国务院印发了《数字中国建设整体布局规划》。下列选项与文件精神相符的是（ ）。

- ①到2035年，基本形成横向打通、纵向贯通、协调有力的一体化推进格局
- ②要打造自信繁荣的数字文化，大力发展网络文化，加强优质网络文化产品供给

- ③要全面提升数字中国建设的整体性、系统性、协同性，促进数字经济和实体经济深度融合
- ④要强化数字技术创新体系和数字安全屏障“两大能力”，优化数字化发展国内国际“两个环境”
- A. ①②③ B. ②③④ C. ①③④ D. ①②④

5. 下列事例对经济学概念的阐释，正确的有（ ）个。

- ①边际成本：小明同时面临着会计、审计助理、出纳三个职位选择，最后小明选择了审计助理，已知会计月薪4500元，审计助理月薪5500元，出纳月薪6000元，那么小明选择审计助理的边际成本就是月薪6000元
- ②机会成本：投资人花10万元买一辆车，付款后，这10万元就属于机会成本，投资人只享有汽车的所有权，并没有10万元的控制权
- ③沉没成本：生产一架飞机的成本很高，随着工艺进步，生产第101架飞机的成本就低得多，而生产第10000架飞机的成本就更低了
- A. 0 B. 1 C. 2 D. 3

6. 春天南风较大，“倒南风”会使排烟道回灌造成室内有毒气体浓度过大，极易造成中毒。为此，甲市融媒体中心拟开设“应急科普”专栏，普及应急安全常识。下列可作为其科普内容的包括（ ）。

- ①煤油、木炭等含碳的燃料在缺氧而不能充分燃烧时均会产生一氧化碳，从而导致中毒
- ②热水器应与浴室隔开，使用热水器时，热水器安装房间及浴室均应保持通风
- ③一氧化碳可溶于水，在室内使用煤炉时在旁边放一盆水可有效预防中毒
- ④使用煤炉前要检查炉灶和烟筒是否完好畅通，接口处是否密封
- A. ①②④ B. ①②③ C. ②③④ D. ①②③④

7. 下列有关我国历史上著名改革的表述，不符合史实的是（ ）。

- A. 春秋时期，李悝提出“相地而衰征”，承认土地私有，加剧了奴隶制度的瓦解
- B. 战国时期，商鞅废井田、开阡陌，实行县制，奖励耕织和军功，实行连坐之法
- C. 南北朝时期，孝文帝推行的汉化改革缓和了阶级矛盾，对经济的恢复和发展产生了积极作用
- D. 北宋时期，王安石变法以发展生产、富国强兵、挽救宋朝政治危机为目的，以“理财”“整军”为中心

8. 依海富国，以海强国，建设海洋强国，创新发展的“蓝色中国梦”正越来越近。下列是在实现“蓝色中国梦”过程中制造的“大国重器”是（ ）。

- ①奋斗者号 ②蛟龙号 ③深海勇士号 ④墨子号
- A. ②③ B. ①②③ C. ②③④ D. ①③④

9. 下列历史事件按发生的先后顺序，正确的是（ ）。

- ①中国绝大部分地区基本完成了对生产资料私有制的社会主义改造
- ②中国人民志愿军跨过鸭绿江，开赴前线，同朝鲜人民军并肩作战
- ③毛泽东偕同周恩来、王若飞抵达重庆，同国民党当局进行谈判，国共双方签署“双十协定”
- ④毛泽东率领秋收起义部队到达罗霄山脉中段的井冈山，创立了党领导下的第一个农村革命根据地
- A. ③④①② B. ③④②① C. ④②③① D. ④③②①

10. 下列农业地域类型的生产特点及其地域分布对应错误的是（ ）。

- A. 水稻种植业——小农经营、商品率低、机械化水平低——东亚、东南亚、南亚季风区
- B. 大牧场放牧业——生产规模大、商品率高、专业化程度高——美国、澳大利亚、新西兰
- C. 商品谷物农业——商品率高、机械化程度高、生产规模大——美国、加拿大、阿根廷
- D. 混合农业——规模小、机械化水平低、灵活性和市场适应性较强——欧洲、北美、南非

11. 在五代南唐，西蜀建立画院的基础上，宋代继续设立翰林图画院，以培养宫廷需要的绘画人才。画院集中了社会上的优秀画家，下列绘画作品与作者对应正确的是（ ）。

- A. 《早春图》——李唐
- B. 《踏歌图》——马远
- C. 《千里江山图》——郭熙
- D. 《女史箴图》——王希孟

12. 以下文学常识有误的是（ ）。

A. 王昌龄的《出塞》：“秦时明月汉时关，万里长征人未还。但使龙城飞将在，不教胡马度阴山。”表现了诗人希望早日平息边塞战事，使人民过上安定的生活

B. 李白的《秋浦歌》：“白发三千丈，缘愁似个长。不知明镜里，何处得秋霜。”白发有三千丈那样长，夸张中带有奇想，给人深刻印象

C. 杜甫的《闻官军收河南河北》：“白日放歌须纵酒，青春作伴好还乡。”表现了诗人对胜利与和平的渴望

D. 白居易的《春夜喜雨》：“好雨知时节，当春乃发生。随风潜入夜，润物细无声。”描写了春雨给人们带来的无限喜悦

13. 下列有关古代书籍的代称，说法错误的是（ ）。

A. “青简”：古代没有纸时，把字写在竹简上，用皮绳把竹简编缀起来，故称书籍为“青简”

B. “芸帙”：人们为防止虫对书的咬噬，常在书里放“芸香”，故称书籍为“芸帙”

C. “缥緜”：“缥”是浅黄色的棉织物，“緜”是青白色的丝织物，古人常用这两种织物作书籍的封皮、封套，故称书籍为“缥緜”

D. “坟典”：“三坟五典”有时用来泛指古代典籍，故称书籍为“坟典”

14. “蜡树银山炫皎光，朔风独啸静三江。老农犹喜高天雪，况有来年麦果香”，这首诗描写了一个节气。对此，下列说法正确的是（ ）。

A. 这个节气是小雪

B. 是全年二十四节气中的最后一个节气

C. 这一天北半球夜最长，昼最短

D. 该节气代表着冬季的开始，北方大部分地区将出现雨雪降温天气

15. 每个时代，人们的休闲方式有所差异，古人的休闲方式非常多元化，下列诗句与所描述的活动对应不正确的是（ ）。

A. 连云列战格，飞鸟不能逾——狩猎

B. 为我一挥手，如听万壑松——弹琴

C. 身轻裙薄易生力，双手向空如鸟翼——荡秋千

D. 棹影斡波飞万剑，鼓声劈浪鸣千雷——赛龙舟

16. 王某饮酒后从小区内驾驶机动车行至小区东门，发现交警大队正在东门附近查酒驾，于是掉头驶回小区。执法人员发现情况后立即对其进行追赶并将王某现场查获，经测试，王某属于饮酒后驾驶机动车。当日，交警大队决定对王某罚款2000元，暂扣机动车驾驶证6个月。下列关于该案例的说法中，正确的是（ ）。

- A. 王某酒后只是在小区内驾车，小区内的道路均不属于开放道路，王某不应受到处罚
- B. 交警大队只可对王某进行罚款，不应该暂扣其机动车驾驶证
- C. 王某若不服处罚决定，可以向人民政府提出行政复议
- D. 在王某被暂扣机动车驾驶证期间，该车辆不得上路行驶

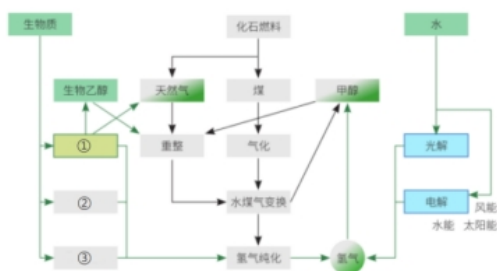
17. 下列情形中，符合抢劫罪加重情节的是（ ）。

- A. 深夜的公交车上，甲见其他乘客困意十足，便对坐在最后一排的乘客实施了抢劫
- B. 乙在室外路边的ATM机上取款时，机器出现故障，乙强行砸坏了机器，并从中按自己余额数值取走了600元现金
- C. 丙对某五保户实施了抢劫，但丙不知物资属于政府发放给五保户的节日福利品
- D. 丁去看望在家养病的同事，期间丁见同事佩戴着首饰，临时起意对同事实施抢劫

18. 1992年中国载人航天工程正式立项实施，经过30年几代航天人的接续奋斗，2022年圆满完成“三步走”战略任务，全面建成中国空间站，目前已正式进入空间站应用与发展阶段。下列有关我国取得的航天成就说法错误的是（ ）。

- A. 载人航天精神被第一批纳入中国共产党人精神谱系
- B. 独立完成中国空间站从设计、制造到测试的全过程
- C. 积极打造构建外空领域人类命运共同体，积极推动“一带一路”空间信息走廊建设
- D. 实现“嫦娥”奔月、“祝融”探火、“羲和”逐日及“天宫”行星探测

19. 生物乙醇重整制氢是氢能绿色供应的重要途径，其采用可再生能源为原料，运用成熟、高效的化工工艺，积极助力碳达峰、碳中和目标的实现。下列工艺流程中，①②③处可分别填入（ ）。



- A. 发酵、气化、裂/热解
- B. 高温、冷却、裂解
- C. 电解、催化、热循环
- D. 放射、催化、冷却

20. 消毒是阻断病毒传播的有效方式之一，下列有关说法错误的是（ ）。

- A. 日常生活中，可以采用涂抹酒精的方式对物体表面进行消毒
- B. 84消毒液是常见的含氯消毒液产品，以氯化钠为主要成分
- C. 紫外线消毒灯如果使用不当，可能会增加患眼部疾病和皮肤癌的风险
- D. 一定浓度的过氧化氢可用于不耐热的塑料制品、餐具等的消毒

二、言语理解与表达

本部分包括表达与理解两方面的内容。请根据题目要求，在四个选项中选出一个最恰当的答案。

21. 建设新时代中国史学，就是要在_____的宏阔视野下，全面考察历史之“变”，深入探究历史之“理”，重新激活中华文明对人类历史走向和命运的观照，在国际史学思潮的激荡中发出新时代中国史学的正声。

填入画横线部分最恰当的一项是（ ）。

- A. 万众瞩目 B. 天马行空 C. 思接千载 D. 瞬息万变

22. 由于目前不少儿童手表使用的操作系统过于老旧，没有任何权限管理要求，恶意程序可以在儿童和家长不知情的情况下轻松_____，并获取孩子的位置、人脸图像、录音等隐私信息，恶意收集、买卖和使用儿童信息，碰触儿童隐私保护红线，直接与国家标准相悖，同时也是对落实《中华人民共和国个人信息保护法》关于儿童信息保护规定的_____。

依次填入画横线部分最恰当的一项是（ ）。

- A. 入侵 轻视 B. 繁衍 阻挠
C. 攻击 挑衅 D. 植入 掣肘

23. 我们知道，自孔子提出“为己之学”的儒家为学宗旨后，后世儒者无不以此为_____。然而，令人遗憾的是，大多学人在对儒家思想范畴和演变历史的梳理中，就概念说概念，把儒学做成了客观“真理”，不知不觉坠入知识之学的_____，忘记了儒学乃切己、切身之学。这无疑是一个重要的学思转向。

依次填入画横线部分最恰当的一项是（ ）。

- A. 龌龊 谷底 B. 圭臬 旋涡
C. 耆宿 深渊 D. 准绳 泥泞

24. 企业经营总是有风险，这一点消费者并非不能理解，可是只顾自身一路野蛮生长，完全把无辜的消费者当_____，则_____了企业发展的底线。

依次填入画横线部分最恰当的一项是（ ）。

- A. 敲门砖 挑战 B. 摇钱树 超越
C. 绊脚石 僭越 D. 垫脚石 逾越

25. 在现有技术条件下拓展农业生产活动空间，丰富农业生产活动内容，使得有限的土地_____更多的劳动力。一方面将我国人多变为优势，能够对农业生产进行精细化的操作和密集性的经营，另一方面能够更好地谋求单产提高和产业优质化。促进农产品多增产和多元化提供，是_____有效解决冗余劳动力和农产品短缺问题的农业经营方式。

依次填入画横线部分最恰当的一项是（ ）。

- A. 承载 一本万利 B. 吸纳 一举两得
C. 汲取 一箭双雕 D. 承受 一蹴而就

26. 在二十世纪艺术的喧嚣中，当其他艺术家纷纷前往巴黎的时候，莫兰迪静静地守在自己的工作室里，用智慧和感觉创造自己的艺术形象，_____地从最简单的器皿中_____艺术之“道”。

依次填入画横线部分最恰当的一项是（ ）。

- A. 孜孜不倦 寻找
B. 坚韧不拔 发掘
C. 按部就班 探索
D. 锱铢必较 追求

27. 虽然社会管理可以借鉴国外发达国家的先进经验，但特定国情中的社会管理，不是简单的取其精华、去其糟粕，而必然是国际化与本土化经过深度_____后的产物。尤其是中国转型期的复杂情况，既面临着后发优势的机遇，也遭遇着“迟发展效应”的掣肘。因此社会管理既缺“引进来”，更乏“本土化”，探索社会管理的中国式创新之道，是转型社会治理_____的焦点话题。

依次填入划横线部分最恰当的一项是（ ）。

- A. 磨合 方兴未艾
B. 契合 如日中天
C. 锤炼 欣欣向荣
D. 研磨 盛极一时

28. 社会信用体系建设是建设诚信中国的重要举措。对于当前社会信用体系建设过程中出现的概念混淆不清甚至误用的情况，亟需进一步_____重要概念的内涵和外延。尤其是在我国存在经济信用、公共信用两套信用机制的情况下，_____两者之间的关系，消除不必要的误会和分歧，_____更多社会共识，有助于增进民众对社会信用体系建设的理解和信任。

依次填入画横线部分最恰当的一项是（ ）。

- A. 辨析 梳理 汇集
B. 肃清 理清 汇聚
C. 廓清 厘清 凝聚
D. 阐明 澄清 聚焦

29. 弗洛伊德_____的心理疗法，如同在这个世界的坚壳上撬开了一条缝，让_____的梦境像一缕烟，袅袅而出。在弗洛伊德看来，梦是那些暗藏心底的欲望——试图忘却而无法忘却的人生挫折。这些生命不可承受之重，在妥协中被无休止地碾压、扭曲，难以释放，便_____在梦里。

依次填入画横线部分最恰当的一项是（ ）。

- A. 别具一格 冲动 发泄
B. 蹈常习故 流动 泄露
C. 异军突起 舞动 倾泻
D. 独树一帜 涌动 宣泄

30. 长江是中国最大的河流，深沉而宏伟，_____了一代又一代文化巨人。长江也是一条具有永不衰竭的航运能力的黄金水道，因其一水之便，一代代诗人和作家行走于江水之上，以诗词和华章沿途点亮这道大江，让它_____出万古不灭的奇光异彩。浩浩的江水流淌的是诗词和散文，流淌的是文字，流淌的是_____的中华文脉。

依次填入画横线部分最恰当的一项是（ ）。

- A. 滋润 散发 挥之不去
B. 养育 迸发 络绎不绝
C. 见证 发散 格古通今
D. 哺育 放射 绵绵不绝

31. 中国的举国体制叠加了秦汉两千年以来的大传统和新中国成立七十多年以来的小传统，其“政制优势”有目共睹。改革开放的历史功绩就在于通过重建市场、再造社会，解放了亿万人民的积极性和创造力。中国未来的健康发展有赖于国家、市场与社会间形成彼此互补、各尽其长的良性关系。要想形成这样的关系，需要各方共同努力，尤其需要国家对社会进行帮扶。

材料中“这样的关系”指代的是（ ）。

- A. 改革开放对于市场的重建、对于社会的再造

B. 秦汉以来的大传统和新中国成立以来的小传统相叠加

C. 国家对社会进行帮扶

D. 国家、市场与社会间彼此互补、各尽其长

32. 编辑并非被动地坐等稿件，也不局限于案头的加工优化，而是对“编辑什么”有清楚的判断和主动的规划，对“不编什么”有明确的标准，这就需不断做出选择。选择是编辑工作的重要环节，遴选作者、组织稿源都必须进行价值判断和选择。编辑选择不仅影响作家队伍的构成，还会直接影响作品的品质和风格。编辑谁的作品，编辑什么作品，在选择背后体现的正是编辑的价值标准。编辑是一门发现的艺术，在茫茫人海中发现好作者，在汗牛充栋的稿件中发现好作品，在众声喧哗中发现新的审美元素和新的思想火花，是编辑工作的重要内容。

这段文字没有介绍编辑工作的（ ）。

A. 重要环节

B. 主要内容

C. 难易程度

D. 重要意义

33. 有记载称，光是乾隆二十一年（1756），乾隆的各处宫殿行宫钟表陈设就多达286件，而乾隆四十九年（1784）两广总督与粤海关监督等累计进贡钟表也多达130件。据不完全统计，终乾隆一朝，进贡的钟表大约有2700件，其中大部分都是英国钟。从平时居住的养心殿，到度假避暑的圆明园、承德避暑山庄，他所到之处几乎必有钟表作为装点。

这段文字主要反映了乾隆收藏钟表的（ ）。

A. 数量多

B. 产地繁

C. 款式丰

D. 来源广

34. 澳大利亚研究人员呼吁让锻炼成为治疗抑郁症的主要方法，他们开展的一项研究表明，体育锻炼的效果是心理咨询或药物的1.5倍。该研究包括97篇综述、1039项试验和128119名参与者。相关研究发表于《英国运动医学杂志》。研究还发现，所有类型的体育活动和锻炼都有益，包括有氧运动，如散步、阻力训练、普拉提和瑜伽等。

下列最适合做这段文字标题的是（ ）。

A. 有氧运动，治疗抑郁症的良方

B. 健康生活，经常进行体育锻炼

C. 改善抑郁，锻炼比药物更有用

D. 体育锻炼，有效提高生活品质

35. 与聊天系统强大的语言生成能力不匹配的是人工智能对知识的真正掌握程度。大量模棱两可乃至错误的信息混杂在流畅的对话中，反而令其更加难以被发现。在一般性知识极易获取、复杂知识参差不齐的背景下，人类专家的专业判断力和经过思考加工的准确回答，更显弥足珍贵。人工智能诸多技术“黑箱”带来的不确定性，终究还需要人类专业、全局判断来化解。从这个层面上讲，_____。

填入画横线部分的句子，与上文衔接最恰当的一项是（ ）。

A. 语言是人类最重要的思维工具

B. 聊天系统也将引起一波“失业潮”

C. 人工智能的核心在于知识的获取

D. “自知”的人类永远不可或缺

36. 我国灾害思想文化源远流长，上古神话传说中的后羿射日、精卫填海、大禹治水，即包含远古先民与灾害抗争的精神内涵。在积极应对自然灾害的历史过程中，因为受制于天命观，奉行天命禳灾、五行灾异、灾异天谴等极具神秘色彩的灾害观念，灾害文化也表现为各种灾害祈祷和祭祀仪式，以求达到禳灾、祛灾目的。_____。灾害文化既能体现出古代社会的国家治理能力，是大国减灾的

文化软实力，又是传统社会国家治理能力所孕育出来的特殊文化现象。

填入画横线部分的句子，与上下文衔接最恰当的一项是（ ）。

- A. 减灾科技属于灾害应对的方法措施，其指导思想则是灾害自然论
- B. 但在禳弥灾异的表象背后，则是集腋成裘、众志成城的精神力量
- C. 数千年来中华民族在与各种各样的自然灾害不断抗争中历经磨难
- D. 我国是一个以农为本的古国，减灾科技主要围绕农业生产来发展

37. ①两国的汉文类书文献随着古代中日两国的互通而不断流动，共同繁荣了同中有异、异中有同的东亚文化圈

②类书是我国古代大型资料性书籍，在采摭群书的基础上，根据对象文本的内容或性质，随类相从并加以编排

③作为文明载体和文化象征，数量庞大的汉籍曾源源不断地传入日本

④类书以其工具性、集藏性和派生性等特点，成为汉籍东传的耀眼之星

⑤经由接受与发展，日本借鉴中国类书的编纂形式，创造出了丰富且具有本民族特点的汉文类书

⑥日本与我国一衣带水，隋唐时期两国交流尤为密切

将上述句子组成语意连贯的语段，排序最恰当的一项是（ ）。

- A. ②③⑥①⑤④
- B. ⑥①③⑤②④
- C. ②⑥③④⑤①
- D. ⑥⑤③②④①

38. ①有线耳机跟手机的关系是“山中只见藤缠树，世上哪见树缠藤”，无线耳机跟手机的关系则是“左右本是同林鸟，大难来时各自飞”

②也就是说，本来已经自成一个小宇宙的包，里面的复杂度、混乱度、神秘度又增添了一分

③有形之线永远剪不断、理还乱，耳机线可能听了太多故事，所以心有千千结，放在包里再拿出来，哪怕只要五分钟，不知道什么神奇力量已经把它缠绞成了一团

④但无线耳机并不比有线耳机的麻烦要少，因为它直接把物品变成三个

⑤无线耳机真的很方便，它永久免除了耳机线打成千奇百怪的结的危险，以及耳机线挂在各种障碍物上的尴尬

⑥无线耳机取下来要放进专门的充电盒里，手头多一重麻烦，包里多一件小物

将上述句子组成语意连贯的语段，排序最恰当的一项是（ ）。

- A. ①⑤⑥③②④
- B. ⑤③①⑥②④
- C. ①⑥②④③⑤
- D. ⑤③④①⑥②

39. ①强军胜战有其规律，但人不是完全消极被动地受规律支配

②军队建设和战争对决都是复杂系统，众多的制胜规律往往在战场上同时起作用，共同规制着战争的进程和结局

③都在一个新的时代到来之前及早洞幽察微明规律、透过现象看本质、拨开迷障辨方向，引领了军事潮流，改变了战争面貌

④如马汉的“海权”理论、杜黑的“制空权”理论、富勒的“机械化战争”理论、格雷厄姆的“高边疆”理论等

⑤从世界军事史上看，但凡威名赫赫的统帅和战将，往往都在洞察和运用规律上强于对手，做到了运用之妙、存乎一心

⑥只要深刻洞察规律，能动地把握和驾驭规律，就能掌握强军胜战的主动

⑦那些蜚声中外的军事名著，往往也都深刻揭示了一定时空条件下的战争规律

将上述句子组成语意连贯的语段，排序最恰当的一项是（ ）。

- A. ①⑥②⑤⑦④③ B. ②⑦⑤④①⑥③ C. ⑤④⑥①③②⑦ D. ⑤②⑦④①⑥③

三、数量分析

本部分包含数学运算和资料分析两种类型的试题。

40. 某帆船队队员甲先行驾驶帆船从某地出海训练，教练员乙、丙随后分别驾驶摩托艇同时从该地出发，三人航线一致且速度不变。已知乙驾驶摩托艇的速度为每小时12千米，追上甲用了2.5小时，丙驾驶摩托艇的速度为每小时15千米，追上甲用了1.5小时。若不考虑其他因素，则乙、丙二人出发时，甲已经航行了（ ）千米。

- A. 7.50 B. 9.75 C. 11.25 D. 12.50

41. 小丁发现，若他按计划于下月1日开始一项任务，第150天他提交任务时刚好是某月的最后一日，且该日为星期天。在不考虑闰年的情况下，他计划开始任务的月份为（ ）。

- A. 第一日为周五的二月 B. 第一日为周三的二月
C. 第一日为周五的五月 D. 第一日为周三的五月

42. 某社区居委会调查了辖区内60岁以上的老人家中准备急救药品的情况，粗调查时，有准备药品的老人与没有准备药品的老人人数之比为1:6，经过详细走访了解后，有准备药品的老人人数增加了27人，且人数为没有准备药品的老人人数的 $\frac{13}{15}$ 。若被调查的老人数量一定，则被调查的老人共有（ ）人。

- A. 56 B. 84 C. 112 D. 140

43. 某超市为了促销，打算将一批香菇和酱油配套进行销售。若按5包香菇和2瓶酱油搭配，则香菇多出8包；若按7包香菇和2瓶酱油搭配，则酱油多出12瓶，则此次用于促销的香菇共有（ ）包。

- A. 38 B. 63 C. 133 D. 168

44. 某公园用12块相同的正方形绿植砖在地面围成一个空心正方形图案，并紧贴图案外围铺设一圈白色石子作为装饰。现已知石子带外围周长为36米，石子带的宽度为0.5米，则12块绿植砖的占地面积为（ ）平方米。

- A. 24 B. 36 C. 48 D. 60

根据以下资料，回答46~50题。

2022年，全国规模以上工业企业实现利润总额84038.5亿元，比上年下降4.0%。

2022年，全国规模以上工业企业中，国有控股企业实现利润总额23792.3亿元，比上年增长3.0%，营业收入较上年增长8.4%；股份制企业实现利润总额61610.9亿元，下降2.7%，营业收入较上年增长7.0%；外商及港澳台商投资企业实现利润总额20039.6亿元，下降9.5%，营业收入较上年增加1.3%；私营企业实现利润总额26638.4亿元，下降7.2%，营业收入较上年增加3.3%。

2022年，采矿业实现利润总额15573.6亿元，比上年增长48.6%；制造业实现利润总额64150.2亿元，下

降13.4%；电力、热力、燃气及水生产和供应业实现利润总额4314.7亿元，增长41.8%。

2022年主要行业利润情况如下：石油和天然气开采业利润总额比上年增长1.10倍，电力、热力生产和供应业增长86.3%，煤炭开采和洗选业增长44.3%，电气机械和器材制造业增长31.2%，专用设备制造业增长3.4%，汽车制造业增长0.6%，通用设备制造业增长0.4%，农副食品加工业增长0.2%，化学原料和化学制品制造业下降8.7%，计算机、通信和其他电子设备制造业下降13.1%，非金属矿物制品业下降15.5%，有色金属冶炼和压延加工业下降16.1%，纺织业下降17.8%，石油、煤炭及其他燃料加工业下降82.8%，黑色金属冶炼和压延加工业下降91.3%。

2022年，全国规模以上工业企业实现营业收入137.91万亿元，比上年增长5.9%；发生营业成本116.84万亿元，增长7.1%；营业收入利润率为6.09%，比上年下降0.64个百分点。

2022年末，全国规模以上工业企业资产总计156.12万亿元，比上年增长8.2%；负债合计88.30万亿元，增长8.6%；所有者权益合计67.82万亿元，增长7.6%；资产负债率为_____，比上年上升0.3个百分点。

2022年末，全国规模以上工业企业应收账款21.65万亿元，比上年增长12.3%；产成品存货6.04万亿元，增长9.9%。

2022年，全国规模以上工业企业每百元营业收入中的成本为84.72元，比上年增加0.91元；每百元营业收入中的费用为8.20元，比上年减少0.42元。

2022年末，全国规模以上工业企业每百元资产实现的营业收入为92.4元，比上年减少2.9元；人均营业收入为182.7万元，比上年增加13.4万元；产成品存货周转天数为17.6天，比上年增加0.9天；应收账款平均回收期为52.8天，比上年增加3.5天。


45. 2021年，全国规模以上工业企业实现利润总额（ ）。

- A. 小于85000亿元
- B. 在85000~86000亿元之间
- C. 在86000~87000亿元之间
- D. 大于87000亿元

46. 2022年末，全国规模以上工业企业每百元资产实现的营业收入同比约（ ）。

- A. 下降3.0%
- B. 下降2.7%
- C. 增长2.7%
- D. 增长3.0%

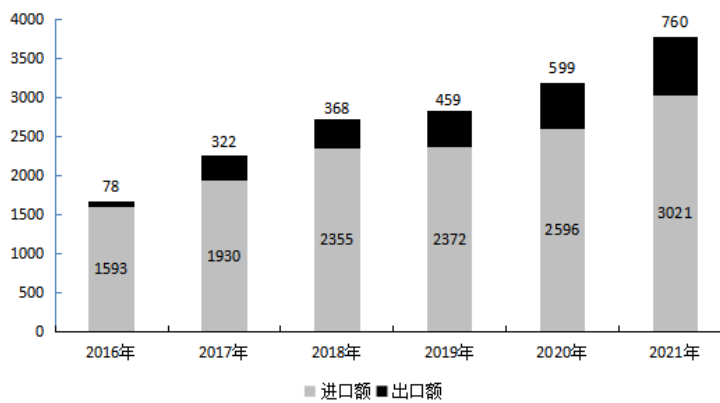
47. 根据上述资料，以下有关2022年全国规模以上工业企业相关数据的柱状图绘制最恰当的一项是（ ）。



C.

图 2016~2021 年我国知识产权使用费进口额、出口额

单位：亿元



50. 2021年全国各地人民法院新收知识产权一审案件与审结知识产权一审案件数量的比值较上年约 ()。

- A. 提高0.06 B. 提高0.6 C. 减小0.06 D. 减小0.6

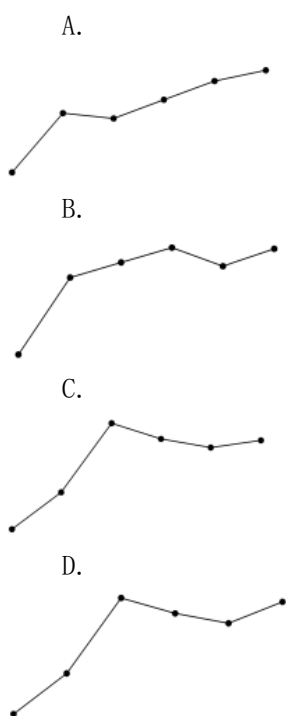
51. 以下选项中，对2021年全国市场监管部门查处的各类知识产权领域违法案件数量关系描述错误的是 ()。

- A. 专利违法案件数量大于其他种类案件数量的总和
 B. 商标违法案件数量是侵犯商业秘密案件数量的800倍
 C. 专利违法案件数量同比增速低于侵犯商业秘密案件
 D. 仿冒混淆案件数量约占知识产权领域违法案件总数的4%

52. 2021年我国每万人口拥有的维持年限超过10年发明专利有效量较上年增加了约 () 件。

- A. 7.023 B. 7.007 C. 70063 D. 70238

53. 2016~2021年我国知识产权使用费出口额与进口额之比的变化趋势大致如下图中的 () 所示。



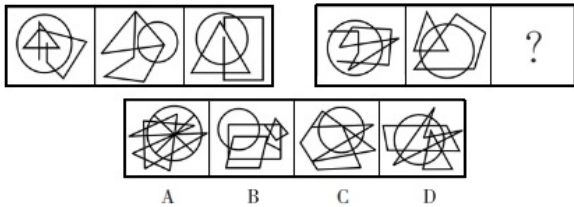
54. 下列说法中，可以根据资料得出的是 ()。

- A. 2021年全国知识产权民事一审案件服判息诉的案件数量为52.22万件
- B. 2021年全国知识产权系统共处理专利侵权纠纷行政裁决案件的同比增长量在7千件以下
- C. 2020年每万人口高价值发明专利拥有量中，在海外有同族专利权发明专利超过7万件
- D. 2021年我国知识产权使用费进口额同比增长率较2019年明显上升

四、判断推理

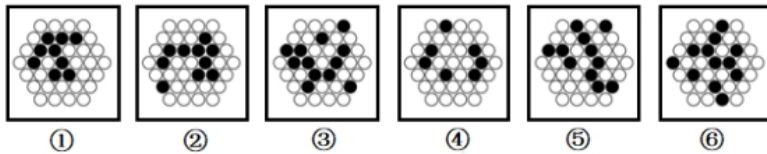
本部分包括图形推理、定义判断、类比推理、逻辑判断和综合判断推理五种类型的试题。

55. 根据所给图形的既有规律，选出一个最合理的答案。



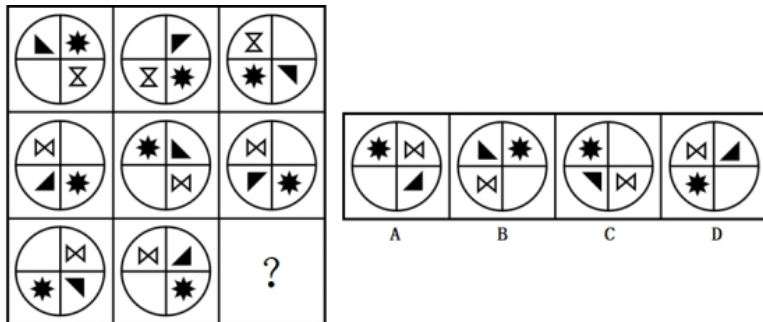
- A. A
- B. B
- C. C
- D. D

56. 下面的六个图形分为两类，使每一类图形都有各自的共同特征或规律，分类最为恰当的一项是（ ）。



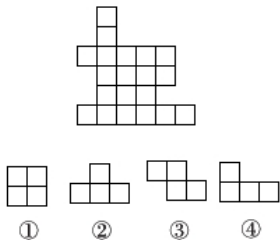
- A. ①②④, ③⑤⑥
- B. ①③④, ②⑤⑥
- C. ①④⑤, ②③⑥
- D. ①②⑤, ③④⑥

57. 根据所给图形的既有规律，选出一个最合理的答案。



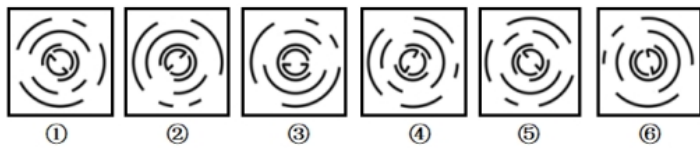
- A. A
- B. B
- C. C
- D. D

58. 经任意平面旋转组成下图最少需要用到下列①②③④中的（ ）种俄罗斯方块。



- A. 1
- B. 2
- C. 3
- D. 4

59. 把下面的六个图形分为两类，使每一类图形都有各自的共同特征或规律，分类最为恰当的一项是（ ）。



- A. ①③⑤, ②④⑥ B. ①④⑤, ②③⑥ C. ①②③, ④⑤⑥ D. ①②④, ③⑤⑥

60. 优势反应是一种熟练程度极高、遇到某种刺激不加思考就做出的习惯性动作，包括正确反应和错误反应。

根据上述定义，下列属于优势反应的有（ ）项。

- ①小李在组装书架时，不小心用锤子砸到手，立马甩手缓解疼痛
- ②小王每次在读英语读物时，只要碰到不认识的单词，就标记个问号
- ③小张回到家有想打游戏的冲动，但却坚持先将未完成的工作做完

- A. 0 B. 1 C. 2 D. 3

61. 史学遗产是指通过各种载体流传下来的前人从事史学活动的总成果，包括各种历史现象的记载，史学家的研究方法、观点和成就，史学在各个时代的作用影响等。

根据上述定义，下列不属于史学遗产的是（ ）。

- A. 唐代著名史学理论家刘知几所著的《史通》，是我国历史上第一部史学理论专著
- B. 南宋袁枢撰《通鉴纪事本末》，首创纪事本末体，朱熹著《资治通鉴纲目》，开创纲目体
- C. 黄宗羲的历史批判精神、顾炎武的经世致用史学思想、梁启超的新史学理论等反映了清朝历史思想新的发展
- D. 张骞出使西域，加强了汉夷文化的交往，中原文明通过“丝绸之路”迅速向四周传播

62. 鳄鱼法则：假定一只鳄鱼咬住你的脚，如果你用手去试图挣脱你的脚，鳄鱼便会同时咬住你的脚与手，你越挣扎，就被咬住得越多。该效应启示我们遭受损失时应及时止损。鲶鱼法则：捕捞沙丁鱼的渔民会在装沙丁鱼的船舱里扔几条鲶鱼，由于鲶鱼的追逐沙丁鱼会一直游动，这样沙丁鱼就不会大量死亡了。该效应启示我们引入适当竞争能够保持组织活力。

根据上述定义，下列体现了鳄鱼法则的有（ ）个。

- ①某大型国企为了发展，从国外招聘了一名高管，引进许多新的管理理念
- ②职工老李竞争单位领导职位失败后，直接辞职了
- ③老王退休后把积蓄都投入股市，近期牛市，他却抛空股票，获利颇丰
- ④老李在路上捡到一部手机，主动联系了失主，失主为感谢老李给了他200元

- A. 0 B. 1 C. 2 D. 3

63. 技能交换是目前在学生和白领中流行的一种交换形式，技能交换者是用自己掌握的技能交换别人掌握的技能，各取所需，以达到互相学习的目的，同时节省下高昂的培训费。

根据上述定义，下列最可能属于技能交换的是（ ）。

- A. 陈医生利用空余时间学习短视频制作，以便向更多的患者科普医学常识
- B. 王先生给陈小姐免费拍了一组艺术照片，同时他要求陈小姐能免费教其女儿弹钢琴
- C. 李大姐在向邻居免费学习烹饪的同时，也向邻居传授了金融理财的专业知识
- D. 大学生小张从其他人手里购买了考研辅导资料后便将资料共享给其室友

度地减少资源消耗和浪费。

健康与舒适：通过考虑建筑内部的空气质量、温湿度、采光等因素，为居住者提供健康、舒适的生活环境。

社会责任：通过考虑建筑的社会影响和对居住者的贡献，提高社会责任感和公共认知度。

根据上述定义，下列选项中体现了绿色建筑“资源节约”的是（ ）。

A. 甲中心采用精心设计的地热系统（温度控制在10摄氏度左右）来调控冬天和夏天的室内温度，最大限度降低冬天供暖及夏天制冷所导致的能耗

B. 乙医院充分利用每一个空间来创造绿色医疗环境，它的每一层楼都布满了绿色，患者和探望者在花园漫步时，会发现这是个宜人的私密冥想空间

C. 丙大厦通过雨水系统，将场地内的雨水引入下凹式绿地、屋顶花园及蓄水池等生态设施，供绿地浇洒、景观用水、车库及道路冲洗

D. 丁博物馆在建造时按照当地的建筑环境，充分尊重当地的习俗，充分尊重人文环境和自然环境的融合，使得丁博物馆成为当地的一个标志性建筑

68. 自由贸易，是指国家取消对进出口贸易的针对性限制和阻碍，取消对本国进出口商品的各种特权和优惠，使商品在国内外市场上自由竞争的一种对外贸易活动。保护贸易是由国家采取各种措施干预对外贸易，以保护本国市场免受外国商品的竞争，包括对本国出口商给予优惠或津贴，奖励出口的方式或活动。

根据上述定义，下列属于保护贸易的是（ ）。

A. 多个国家共同签署了RCEP

B. 甲国全境实行进口商品“免申报”“零关税”政策

C. 乙国对从丙国进口的计算机产品征收的关税是本国在WTO备案的最惠国关税的2倍

D. 丁国与戊国签订协定，取消戊国农产品进入丁国的市场限制并给予最惠国待遇

69. 根据记忆内容和经验对象划分，记忆可分为形象记忆、逻辑记忆、情绪记忆和动作记忆。形象记忆是对感知过的事物具体形象的记忆；逻辑记忆是以对概念、公式、规律等逻辑思维过程为内容的记忆；情绪记忆是对自己体验过的情绪和情感的记忆；动作记忆是对身体运动状态和动作技能的记忆。

根据上述定义，下列说法错误的是（ ）。

A. “余音绕梁三日不绝于耳的记忆”属于形象记忆

B. “质量守恒定律的定义及应用的记忆”属于逻辑记忆

C. “小明在微博里记录了当天参加科学营的开心经历”属于逻辑记忆

D. “武术运动员对拳术一招一式的记忆”属于动作记忆

70. 滤芯：净水器

A. 商人：社会

B. 手术：医院

C. 发动机：汽车

D. 古迹：遗产

71. 水钟：沙漏

A. 冰箱：饭盒

B. 雨伞：眼镜

C. 油画：颜料

D. 狼烟：信号灯

72. 违规执业：行政处罚

A. 测量血压：治疗疾病

B. 水土流失：乱砍滥伐

C. 见义勇为：交口称赞 D. 工厂倒闭：商品滞销

73. 智能窗帘：智能家居：智能门锁

A. 图形：文字：表格

B. 扎染：刺绣：印花

C. 太平洋：印度洋：大西洋

D. 人类：脊椎动物：鳄鱼

74. 孙武：兵圣：三令五申

A. 孟子：亚圣：韦编三绝

B. 顾恺之：画圣：画龙点睛

C. 吕不韦：商圣：奇货可居

D. 关羽：武圣：绝伦逸群

75. 瞄准：射箭：战士

A. 授课：教学：师资 B. 调味：烹饪：厨师 C. 零件：工人：组装 D. 发布：论文：教授

76. 鸽子树 对于 () 相当于 () 对于 牡丹

A. 和平 富贵

B. 珙桐 富贵花

C. 白色 红色

D. 单瓣 重瓣

77. 报恩 对于 () 相当于 () 对于 高山流水

A. 阳春白雪 恩爱

B. 结草衔环 知音

C. 五体投地 忠诚

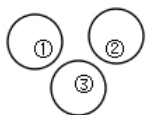
D. 鞠躬尽瘁 休闲

78. 祥鸡瑞凤临宝地 对于 () 相当于 () 对于 平安二字值千金

A. 紫气金光绕福门 和顺一门有百福 B. 一年四季春常在 和顺一门有百福

C. 紫气金光绕福门 万紫千红花永开 D. 一年四季春常在 万紫千红花永开

79. 如果用一个圆来表示概念所指称的对象的集合，那么以下 () 中三个概念之间的关系符合下图。



A. ①计算机 ②鼠标 ③键盘

B. ①事业单位 ②国有企业 ③公司

C. ①采矿业 ②制造业 ③建筑业

D. ①本科 ②研究生 ③博士

80. 数据显示，某国道路交通事故伤亡人员中，驾驶电动自行车导致的死亡人数达8639人。受伤人数达44677人，伤亡人数接近非机动车伤亡人数的70%，而电动自行车交通事故，多数是当事人交通违法造成的，为此该国出台了更严格的交规，违规者可能被处以高额的罚款。但此交规出台后，违法行为并没有得到有效遏制。

下列选项如果为真，最能解释上述情况的是 ()。

A. “闯红灯”已被列为交通违法行为种类

B. 骑电动车成为绝大部分人出行的选择

C. 电子抓拍设备灵敏度不够高

D. 交规并不能改变人们的“违法性格”

81. 研究人员在2022年夏季以1011名德国成年人为受访对象，开展了在线调研。调研结果显示，当受访者只看到每个月的利息数额时，他们为消费透支或借贷的意愿会比较强烈；而当研究人员向他们展示相关借贷可能带来的年度成本时，受访者的借贷意愿会减弱。由此得出结论，消费借贷的信息呈现方

式是影响受访者决定的主要因素。

下列选项如果为真，最能削弱上述结论的是（ ）。

- A. 增强相关信息透明度比提升债务人的金融知识水平，更能左右债务人对借贷的决定
- B. 缺乏信息透明度可能会影响金融机构间的公平竞争和金融业创新
- C. 无论是使用支票账户的透支功能还是消费贷，利率的差异都不影响还贷成本
- D. 金融知识水平的提升，可加强人们对利率和借贷成本的敏感度，从而影响其借贷意愿

82. 当前，各国政府以及相关组织在进行粮食生产调查、作出粮食安全评估时，主要采用的是面对面或电话访谈的调查方式。这种方式需要更高的资金和人力成本，由于受到各种外界因素的影响，很多国家和地区无法及时获得有关粮食安全的基本数据。针对这一困境，研究人员提出可以通过机器学习算法来获取数据。

下列选项如果为真，最可能是研究人员提出通过机器学习算法来获取数据的前提的是（ ）。

- A. 机器学习算法的特点在于能自动解决大型非线性问题，支持在真实场景中更好地决策和操作，而不需要人工干预
- B. 机器学习算法可以根据影响粮食生产的主要因素，预测指定地区的粮食安全状况，且这种预测的准确度可以达到81%
- C. 机器学习算法可询问大型数据集，生成新的和可测试的输出以及具备预测作物行为的能力
- D. 威胁粮食安全的因素从未消失，包括气候异常、自然灾害，其中尤以病虫害因素最为普遍

83. 某专家指出，年轻人越来越不喜欢走亲戚，这一现象的出现有其文化、社会和个体基础，是社会结构、社会关系、人际交往方式变化的一个缩影，但这种亲戚关系的淡化并不必然意味着亲缘关系网络的瓦解。

下列选项如果为真，无法支持专家观点的是（ ）。

- A. 随着社会的不断发展，亲缘的联结在未来可能有不同的形式，但人情基底还会嵌于中国社会文化之中
- B. 互联网深刻改变了人类交往方式和生活方式，年轻人可以通过网络寻找到志趣相投的心理群体获得情感支持
- C. 中国传统文化仍然渗透于社会教养方式、社会行为规范之中，人情文化仍有相当的影响力
- D. 年轻人在组建了自己的家庭、有了自己的子女之后，对于亲情牵绊会有更深的感悟

84. 只要引进高层次科研人才并投入充足的科研经费，就能够使一家研究院的科研实力得到显著提升。只有对现行的科研人才晋升制度进行改革，才能引进到高层次科研人才。某研究院经过几年的建设，但其科研实力并未得到显著提升。

假如以上说法均为真，下列选项可以判断真假的是（ ）。

- A. 过去几年，该研究院一直没有对科研人才晋升制度进行改革
- B. 过去几年，该研究院尝试对科研人才晋升制度进行改革，但没有成功
- C. 过去几年，该研究院没有获得充足的科研经费，并且引进不了高层次科研人才
- D. 过去几年，该研究院可能没有引进高层次科研人才，也可能没有投入充足的科研经费

85. 隐蔽工程未经项目监理机构进行检查验收，不得进行工程隐蔽或下道工序的施工。

下列选项无法由此推出的是（ ）。

- A. 所有经过了项目监理机构的检查验收的隐蔽工程都能进行工程隐蔽或下道工序的施工
- B. 经过项目监理机构的检查验收是隐蔽工程进行工程隐蔽或下道工序的施工的必要条件
- C. 经过项目监理机构的检查验收是隐蔽工程进行工程隐蔽或下道工序的施工的前提
- D. 隐蔽工程只有经过项目监理机构的检查验收，才能进行工程隐蔽或下道工序的施工

86. 王、陈、张、李正在商量某社会课题研究的分工，他们当中一个人负责进度汇报，一个人负责收集资料，一个人负责整理资料，一个人负责组成文稿；每个人只负责其中的一项工作。已知：

- ①陈不负责进度汇报，也不负责整理资料；
- ②王不负责进度汇报，也不负责组成文稿；
- ③李不负责整理资料，也不负责组成文稿；
- ④张不负责组成文稿，也不负责进度汇报；
- ⑤如果王不负责整理资料，那么李不负责进度汇报。

从上述可以推出张负责（ ）。

- A. 进度汇报
- B. 收集资料
- C. 整理资料
- D. 组成文稿

87. 甲、乙、丙、丁是某市京剧院的四位演员，每位只工“生”“旦”“净”“丑”四个行当中的一个行当，已知：

- ①只有甲工“生”，那么乙才不工“旦”；
- ②或者丙工“生”，或者甲工“生”；
- ③只有乙不工“旦”，那么丁才不工“净”；
- ④或者甲不工“丑”，或者丁工“净”。

下列选项中，如果（ ）为真，可以推出丙工“生”。

- A. 甲工“生”
- B. 乙不工“旦”
- C. 甲工“丑”
- D. 丁不工“净”

根据以下材料，回答89~90题。

甲研究团队进行了一项试验，他们招募了18名身体健康、体重正常的男性志愿者（为了排除女性月经期激素波动的影响），让他们在试验前一天控制饮食并避免剧烈运动。试验当天，研究人员为受试者插上静脉插管，以便采集血样。受试者们插管后被要求放松1小时，并在经过1小时的禁食后，再吃一顿统一的食物。在这个过程中，每30分钟会进行一次血液激素含量测定，同时完成一次评估饥饿感、饱腹感、焦虑感、不适感的量表。研究人员在受试者禁食、餐后、餐后1个小时的三种代谢状态下，分别进行了一次风险偏好的测试。每次测试中，受试者需要在风险不同的彩票方案中选择更喜欢的一种，总共至少选择200次且不设置时间限制。结果发现，进食后，随着体内控制食欲的激素水平发生变化，食欲降低，财务方面的风险偏好也相应降低了。也就是说，人吃饱之后，倾向于变得更保守、更不愿冒险。

88. 下列选项中，最能为该研究团队得出的结论的真实性提供支持的是（ ）。

- A. 女性月经期激素波动会对试验结果造成影响，需要服用药物来维持体内激素的水平，成本较高
- B. 研究人员是通过测量志愿者体内的激素分泌情况而不是通过口头询问饱还是饿来判断饥饿对人的影响的

C. 这18名志愿者中有的人不喜欢吃这些“统一的食物”，但为了保证试验能顺利进行不得不吃

D. 大多数人群在摄入食物后，大概三四个小时食物就会逐渐转变为脂肪，进而达到为机体提供能量的目的

89. 若有另一个研究团队乙也开展了相关试验，得出“人们在饥饿状态下更倾向于做出和自己喜好、性格相反的决策”的结论，且甲、乙研究团队的结论均为真实的，则下列说法中必定为假的是（ ）。

A. 甲研究团队开展试验的18名志愿者在吃饭前比吃饭后更倾向于冒险

B. 小明是个稳妥的人，他总是不能相信自己的判断是否正确，则他可以在吃饱后再作决定

C. 乙研究团队开展试验的志愿者中，可能有性格保守的人和性格激进的人

D. 小华害怕坐过山车，但他却和朋友游玩时去坐了过山车，则小华坐过山车前一定吃饱了饭

五、综合分析

所给出的文字资料均有若干个问题要你回答，你应根据资料提供的信息进行分析、判断和处理。

（一）

“物勒工名”是指器物的制造者要把自己的名字刻在器物上面，以方便管理者检验产品质量。它是中国古代的一种手工业管理制度，《礼记·月令》载：“物勒工名，以考其诚，功有不当，必行其罪，以穷其情。”大量刻画着工匠名字的出土文物说明这一制度起源很早，_____。

早在商周时期即在青铜器上刻记人名的现象，但此时多是标明物品的所有者，并非制作者。将制造者名字刻上器物的情况出现在春秋战国时期，当时，有些器物上还出现了主造人和监造人的名字，如《殷周金文集成》所录的“十一年鬲令矛”上刻有“十一年，鬲令肖猷、下库工师馭石、冶人參所铸钻户者”的铭文，记录了令（主持者）、工师（监造者）、冶人（制作者）的名字。

秦朝实现了国家统一，“物勒工名”制度也随之被进一步强化，不仅在实践中加强考核，在法律上也得以强化，这在睡虎地出土的秦简中有具体的规定，如《工律》说“公甲兵各以其官名刻久之，其不可刻久之，以丹若髹书之”。又《效律》云：“公器不久刻者，官啬夫费一盾。”

汉承秦制，“物勒工名”制度的实施日臻完备，其显著标志是，这一制度已深入到官营手工业的各个方面，目前在一些铜器、漆器、铁器、骨签等出土文物上均发现有铭文，而且铭刻内容较为丰富，如1956年，在贵州清镇平坝汉墓出土的漆耳杯上题字云：“元始三年，广汉郡工官造乘輿髹丹画木黄耳椀，容一升十六籥；素工昌、休工立、上工阶、铜耳黄涂工常、画工方、丹工平、清工匡、造工忠造，护工卒史恽、守长音、丞冯掾林，守令史谭主。”铭文介绍了产品制造的时间、地点、参与制造和监督人员的名单。

唐朝在承袭前代“物勒工名”制度的基础上，对该制度进行了丰富和发展。一方面，政府为了确保官营手工业技术领域后继有人，对手工业实行工匠征集制度，为工匠设立“匠籍”，子弟要世袭匠籍。另一方面，政府把“物勒工名”制度和工匠的培养考核结合起来。

我国古代“物勒工名”的手工业管理制度历史悠久，在保证产品或者工程质量方面发挥了重要作用。这一制度之所以产生并长期延续，主要有如下几方面的原因。

《管子·兵法》指出“器械巧，则伐而不费”，说明在冷兵器时代，武器装备的质量对战争的胜负影响

辜和丑化女性的内容，杀人的武松、李逵、宋江都得到善终，作者“三观不正”，作品是“毒小说”，不适合提供给学生阅读，应该禁止任何学校向学生推荐《水浒传》作为课外读物。①

这则消息能在网络上不胫而走，是因为它足够冲击常识。《水浒传》作为四大名著，它的杰出已经刻进了常识，举报它很容易就会被大众认为荒谬。但是，在《水浒传》还没有成为名著的古代，它其实也曾几次遭到禁止。《西厢记》与杀人放火毫不相干，只是展现男女情爱，也在明清两朝因为与礼教之间的冲突，常常被判为“淫书”，让林黛玉都不好意思在薛宝钗面前承认自己读过。外国名著《包法利夫人》由于讲述了一个与婚外恋有关的自我毁灭的故事，也曾被冠以“败坏公众道德”的罪名，在其诞生地惹上诉讼。②

《水浒传》这样的书是否“诲淫诲盗”，其背后是一个阅读观的问题。“诲淫诲盗”这个词中，“诲”意为教导，这揭示了一种观念，即将阅读当成一个受到书中内容教育的过程。阅读确实具有使人受到教育的功能，但是这种教育过程，并不是机械的必然关系。假如一个人读的书里有什么样的人，他就会变成什么样，那么书本中对不道德行为的描述，必定会将读者变得不道德——在这种机械的阅读观下，阅读会是一件极为可怕的事，毕竟哪怕是道德训诫的书本，若要教人向善，首先也要讲一讲什么是恶，可一旦描述了恶，在这个机械的阅读观下，也难保这些描述不会毒害阅读者。按照这个逻辑，想要打造一个绝不毒害人的水晶世界，恐怕只禁掉一部《水浒传》也还是不够。须知阅读并不是罪恶的源头，恶行源自于人性本身。《水浒传》中的武松、李逵，举报意见里认为他们犯下杀人恶行，但他们似乎也不曾读什么“毒小说”。反而现实历史中有不少做出大成就、大事业的，往往对小时候偷读《水浒传》的经历津津乐道。若有人自称看了《水浒传》才去犯罪，只能是他不肯承认自己犯了罪，反而找借口，嫁祸到《水浒传》头上了。③

其实，《水浒传》中这些道德上不完美的人物们的故事，阅读它，反而有助于人的心智成长。亚里士多德关于悲剧的“净化”理论认为，悲剧可以唤起人们怜悯、恐惧等情感，被唤起的情感得以净化，让人们对于美德产生新的体验。这个道理也可以用在《水浒传》上。《水浒传》中，一百零八好汉本是天降的魔星，这已经意味着他们是超出规范的人，并不是作为道德模范被提出的。其故事有时让读者觉得爽快、佩服，有时又觉得同情、怜悯，有时甚至是厌恶、反感。读者可以在情感的激荡中，思考书中人物的功过，思考何为正义。还可以在和作者叙述立场的分歧中，了解古今价值观的异同，批判性地看待书本。这恰恰是时至今日青少年继续读《水浒传》的意义之一。

阅读并不“可怕”，同时阅读也不应该被神化。④。近日，另一则颇有热度的关于阅读的消息，是朱自清的《经典常谈》加入八年级语文阅读书目。这一变动，可能是为了借此引起初中生对我国经典的兴趣。消息发布后，《经典常谈》的销量短时间内急剧增长，某社出版的版本立竿见影地售出超过百万册。这在纸质书落寞的今天十分罕见，却又在预期之中。然而不少学生读《经典常谈》时感到十分费力。有人为求效率，选择只读、记别人的知识点笔记，反而将原书弃之不顾，此举虽可能于考试得分有利，却似乎背离了阅读课理念的初心。其实《经典常谈》是关于多部中国古代经典的导读，在它诞生的年代，是“中等以上教育”中经典训练的辅助书本，但1930年代中学生的知识结构，与今天的十四五岁学生差别颇大。一个人从书本中获得的，总是和这个人当下的认知水平相匹配。初中生若有学力出众者，打算利用此书，结合课堂、课余读过的经典名篇，进一步了解经典原书，尚且可取；倘若

④错误，2023年中央一号文件指出，引导劳动密集型产业向中西部地区、向县域梯度转移，支持大中城市在周边县域布局关联产业和配套企业。

综上，①②③正确。

故本题选C。

2

.【答案】B

【解析】A、C项正确，中国式现代化在理论上和实践上具有许多亮点。其一，中国式现代化对内创造了经济快速发展和社会长期稳定的奇迹。其二，中国式现代化对外坚持走合作共赢的和平发展道路。其三，中国式现代化在运行上的体制优势和高效率。其四，中国式现代化在进程上的整体一贯性和延续性。

B项错误，党的二十大报告指出，中国式现代化是全体人民共同富裕的现代化。并非“同步富裕”。

D项正确，党的二十大报告指出，中国式现代化是人与自然和谐共生的现代化。

故本题选B。

3

.【答案】C

【解析】①②正确，2022年，党中央、国务院部署实施新的组合式税费支持政策，既有阶段性措施，又有制度性安排；既有税率式优惠，又有税基式优惠；既有退税、减税、免税、缓税政策，又有降费、缓费措施；既有普遍适用的减负政策，又有特定领域专项帮扶措施；既有中央统一实施的政策，又有地方依法自主实施的措施。多种政策工具有效组合、协同发力，为市场主体纾困发展提供了有力支撑。

③错误，从国际经验看，目前税费优惠政策主要有以下几个着力点：一是解决市场失灵，用税费政策去弥补正外部性所产生的成本；二是作为财政刺激性工具，尤其在逆周期、跨周期的调节中，税费优惠可以发挥更为明显的作用；三是助力产业发展战略；四是吸引投资。“弥补负外部性”说法错误。

综上，正确的是①②，共2项。

故本题选C。

4

.【答案】B

【解析】①错误，《数字中国建设整体布局规划》提出，到2025年，基本形成横向打通、纵向贯通、协调有力的一体化推进格局，数字中国建设取得重要进展。

②正确，《数字中国建设整体布局规划》指出，要全面赋能经济社会发展。一是做强做优做大数字经济。二是发展高效协同的数字政务。三是打造自信繁荣的数字文化。大力发展网络文化，加强优质网络文化产品供给，引导各类平台和广大网民创作生产积极健康、向上向善的网络文化产品。

③正确，《数字中国建设整体布局规划》强调，全面提升数字中国建设的整体性、系统性、协同性，促进数字经济和实体经济深度融合，以数字化驱动生产生活和治理方式变革，为以中国式现代化全面推进中华民族伟大复兴注入强大动力。

④正确，《数字中国建设整体布局规划》明确，数字中国建设按照“2522”的整体框架进行布局，即夯

实数字基础设施和数据资源体系“两大基础”，推进数字技术与经济、政治、文化、社会、生态文明建设“五位一体”深度融合，强化数字技术创新体系和数字安全屏障“两大能力”，优化数字化发展国内国际“两个环境”。

综上，正确的是②③④。

故本题选B。

5

.【答案】A

【解析】边际成本指的是每一单位新增生产的产品带来的总成本的增量。机会成本是指企业为从事某项经营活动而放弃另一项经营活动的机会，或利用一定资源获得某种收入时所放弃的另一种收入。沉没成本是指以往发生的，但与当前决策无关的费用。

①错误，小明选择审计助理，意味着放弃出纳的职位，则小明选择审计助理的机会成本是6000元，并非边际成本。

②错误，投资人花10万元买一辆车，这10万元属于不可回收的沉没成本。

③错误，生产第101架飞机的成本就低得多，而生产第10000架飞机的成本就更低了，属于边际成本。

综上，①②③均不正确，即正确的有0个。

故本题选A。

6

.【答案】A

【解析】①正确，含碳的燃料在氧气不足的条件下燃烧时生成一氧化碳，在氧气充足的条件下燃烧生成二氧化碳。一氧化碳对人体有害，吸入人体后极易与血红蛋白结合，阻碍氧气的运输，造成血缺氧。

②正确，热水器应该安装在通风、干燥的室内位置，与浴室隔开，避免阳光直射和潮湿环境，同时也要避免安装在易燃和易爆的场所；燃气热水器在使用时建议将排气扇打开，或是直接将窗户打开保持通风顺畅，以免中毒。

③错误，在通常状况下，一氧化碳是无色、无臭、无味、难溶于水的气体。

④正确，使用煤炉取暖前要彻底检查煤炉，保证炉灶和烟筒完好畅通，接口处应密封，还应安装排烟管道，确保管道畅通、不漏气。

综上，可作为科普内容的有①②④。

故本题选A。

7

.【答案】A

【解析】A项错误，“相地而衰征”是春秋时期管仲提出的按照土地不同情况分等征收农业税的财政思想。B、C、D三项均正确。

故本题选A。

8

.【答案】B

【解析】①正确，“奋斗者号”是中国研发的万米载人潜水器。

②正确，“蛟龙号”一般指蛟龙号载人潜水器，是一艘由中国自行设计、自主集成研制的载人潜水器。

③正确，“深海勇士号”一般指深海勇士号载人潜水器，简称“深海勇士”，是中国第二台深海载人潜水器，它的作业能力达到水下4500米。

④错误，“墨子号”是中国自主研制的首颗空间量子科学实验卫星，与“蓝色中国梦”无关。

综上，正确的有①②③。

故本题选B。

9

.【答案】D

【解析】①1955年夏季以后，我国加快了对农业、手工业和资本主义工商业社会主义改造的步伐。到1956年，全国绝大部分地区基本完成了对生产资料私有制的社会主义改造，社会主义基本经济制度在我国建立起来。

②1950年6月25日，朝鲜内战爆发，10月19日，中国人民志愿军跨过鸭绿江，开赴前线，同朝鲜人民军并肩作战。

③1945年8月28日，中共代表毛泽东、周恩来、王若飞从延安飞抵重庆，与国民党进行谈判。

④1927年10月，毛泽东率领秋收起义的部队到达江西罗霄山脉中段的井冈山，先后在宁冈、永新、茶陵、遂川等县恢复和建立了党组织，发展武装力量，开展游击战争，领导农民打土豪分田地，建立红色政权，实行工农武装割据，创立了党领导下的第一个农村革命根据地。

综上，按发生的先后顺序，正确的是④③②①。

故本题选D。

10

.【答案】D

【解析】A、B、C三项均正确。D项错误，混合农业是一种在同一农场中将种植业和畜牧业有机结合在一起的农业生产地域类型，主要分布在欧洲、北美、南非、澳大利亚、新西兰、我国珠江三角洲等地。其主要特点是饲养牲畜和谷物生产有机结合，大农场经济、生产规模大，商品率高，机械化和科技水平高，经营比较粗放，机械化程度较高。

故本题选D。

11

.【答案】B

【解析】A项错误，《早春图》是北宋宫廷画家郭熙创作的一幅绢本设色画。

B项正确，《踏歌图》是南宋画家马远创作的一幅绢本设色山水人物画。

C项错误，《千里江山图》是北宋王希孟创作的绢本设色画。

D项错误，《女史箴图》是东晋顾恺之创作的绢本绘画作品。

故本题选B。

12

.【答案】D

【解析】A、B、C三项均正确。D项错误，《春夜喜雨》是唐代诗人杜甫的诗作。此诗以极大的喜悦之情细致地描绘了春雨的特点和成都夜雨的景象，热情地讴歌了来得及时、滋润万物的春雨。

故本题选D。

13

. 【答案】C

【解析】A、B、D三项均正确。C项错误，“缥”是青白色丝织物，“缃”是浅黄色的丝织物，古时常用淡青、浅黄色的丝帛作书囊书衣，因此常用“缥缃”指代书卷。

故本题选C。

14

. 【答案】B

【解析】A项错误，诗句出自左河水的《大寒》，描写的节气是大寒。

B项正确，大寒是二十四节气中的最后一个节气。

C项错误，冬至日北半球夜最长，昼最短。

D项错误，立冬代表着冬季的开始，北方大部分地区将出现雨雪降温天气。

故本题选B。

15

. 【答案】A

【解析】A项错误，“连云列战格，飞鸟不能逾”出自唐代杜甫的《潼关吏》，意思是那些防御工事高耸入云端，即使飞鸟也不能越逾。描述的是防御。

B项正确，“为我一挥手，如听万壑松”出自唐代李白的《听蜀僧濬弹琴》，意思是他为我挥手弹奏了名曲，我好像听到万壑松涛的声音。描述的是弹琴。

C项正确，“身轻裙薄易生力，双手向空如鸟翼”出自唐代王建的《秋千词》，意思是身子轻盈，衣裙轻薄容易使出力气，两只手攥住丝绳，就像飞向空中的鸟翼一般。描述的是荡秋千。

D项正确，“棹影斡波飞万剑，鼓声劈浪鸣千雷”出自唐代张建封的《竞渡歌》，描述的是端午节赛龙舟的场景。

故本题选A。

16

. 【答案】C

【解析】A项错误，根据《道路交通安全法》第119条的规定，“道路”，是指公路、城市道路和虽在单位管辖范围但允许社会机动车通行的地方，包括广场、公共停车场等用于公众通行的场所。“小区内的道路均不属于开放道路”说法错误。

B项错误，《道路交通安全法》第91条第一款规定，饮酒后驾驶机动车的，处暂扣六个月机动车驾驶证，并处一千元以上二千元以下罚款。因饮酒后驾驶机动车被处罚，再次饮酒后驾驶机动车的，处十日以下拘留，并处一千元以上二千元以下罚款，吊销机动车驾驶证。

C项正确，《行政复议法》第12条第一款规定，对县级以上地方各级人民政府工作部门的具体行政行为不服的，由申请人选择，可以向该部门的本级人民政府申请行政复议，也可以向上一级主管部门申请行

政复议。因此，王某若不服处罚决定，可以向该交警部门的上一级交通管理部门或者是管辖该交警部门的人民政府提出复议申请。

D项错误，《道路交通安全法实施条例》第28条规定，机动车驾驶人在机动车驾驶证丢失、损毁、超过有效期或者被依法扣留、暂扣期间以及记分达到12分的，不得驾驶机动车。王某不得驾驶机动车，不代表该车辆不得上路行驶。

故本题选C。

17

.【答案】A

【解析】《刑法》第263条规定，以暴力、胁迫或者其他方法抢劫公私财物的，处三年以上十年以下有期徒刑，并处罚金；有下列情形之一的，处十年以上有期徒刑、无期徒刑或者死刑，并处罚金或者没收财产：（一）入户抢劫的；（二）在公共交通工具上抢劫的；（三）抢劫银行或者其他金融机构的；（四）多次抢劫或者抢劫数额巨大的；（五）抢劫致人重伤、死亡的；（六）冒充军警人员抢劫的；（七）持枪抢劫的；（八）抢劫军用物资或者抢险、救灾、救济物资的。

A项正确，属于在公共交通工具上抢劫，符合抢劫罪加重情节。

B项错误，不属于抢劫罪。

C项错误，丙不知物资属于救济物资。

D项错误，入室后才临时起意实施抢劫，不属于入户抢劫。

故本题选A。

18

.【答案】D

【解析】A、B、C三项均正确。D项错误，“天宫”一般指中国空间站，“天问”系列是中国行星探测任务名称。

故本题选D。

19

.【答案】A

【解析】题干工艺流程图是制氢工艺。制氢工艺可分为三大类：化工工艺，包括气化、重整、裂/热解等；光/电工艺，包括光解、电解等；生物工艺，包括微生物发酵等。生物质通过①生成生物乙醇和天然气，因此①是发酵，只有A项正确。

故本题选A。

20

.【答案】B

【解析】A项正确，日常生活中，可以用75%的医用酒精来进行物体表面的消毒。

B项错误，84消毒液是一种以次氯酸钠为主要成分的含氯消毒剂，主要用于物体表面和环境等的消毒。氯化钠是食盐的主要成分。

C项正确，紫外线主要作用于微生物的DNA，破坏DNA结构，使之失去繁殖和自我复制的功能从而达到杀菌消毒的目的。因此，紫外线消毒灯如果使用不当，可能会增加患眼部疾病和皮肤癌的风险。

D项正确，过氧化氢是一种强氧化剂，浓度为10%~25%的过氧化氢溶液60分钟可以灭菌，用于不耐热的塑料制品、餐具、服装等的消毒。

故本题选B。

21

.【答案】C

【解析】辨析四个成语的意思：“万众瞩目”指大家十分关注，目不转睛地注视；“天马行空”多形容诗文、书法、言行等气势豪放，不受拘束；“思接千载”指专心致志地思考，思绪连接古今；“瞬息万变”形容变化很快、很多。文段讲建设新时代中国史学要全面考察历史之“变”，此处形容一种宏观的视野，只有“思接千载”与思考、历史有关，锁定C项。

故本题选C。

22

.【答案】D

【解析】先看第一空，此处讲恶意程序会进入到儿童手表的系统里，获取儿童隐私信息，“繁衍”明显不符合语意，排除B项；“攻击”指进攻或恶意指责，恶意程序只是获取儿童隐私信息，并未对孩子进行攻击，不符合语意，排除C项。

再看第二空，“轻视”指不重视、不认真对待，“掣肘”比喻阻拦别人做事，此处讲恶意程序侵犯儿童隐私，已经触碰到法律的红线，阻碍了儿童信息保护工作的开展，相比之下，“轻视”词义过轻，排除A项。

验证第一空，“植入”指像植树那样把一物安放到另一物中、插入，符合语意。

故本题选D。

23

.【答案】B

【解析】先看第一空，此处讲孔子提出“为己之学”的儒家为学宗旨，后世儒者也以此为宗旨，“龃龉”比喻意见不合，互相抵触，与文段意思相悖，排除A项；“耆宿”指在社会上有名望的老年人，此处对象为“为己之学”的儒家宗旨，并非孔子这个人，不符合语意，排除C项。

再看第二空，“泥泞”本义为淤积的烂泥，抽象表达阻碍发展的、不好的境地，用来形容“知识之学”程度过重，且与“坠入”搭配不当，常表述为“陷入泥泞”，排除D项。

验证B项，“圭臬”比喻准则和法度，与前文“宗旨”相近，符合语意；“旋涡”本义是流体旋转时形成的螺旋形圆窝，用在此处抽象表达如果只把儒学当成客观“真理”，可能会被知识本身所累，而忘记了要密切联系实际，符合语意。

故本题选B。

24

.【答案】D

【解析】先看第一空，此处讲企业不能只顾自身成长而不考虑消费者，“绊脚石”比喻阻碍前进的人或事物，企业经营势必会利用消费者，消费者不会阻碍企业的发展，不符合语意，排除C项。

再看第二空，“超越底线”可能是积极的一面，不符合文段的感情色彩，排除B项；比较A、D项，“挑战底线”的意思是与底线做斗争，“逾越底线”指已经跨越了底线，相比之下，“逾越”的程度更重，更与文段的语境相配，排除A项。

验证D项，“垫脚石”比喻被人借以向上爬的人或事物，和前文“只顾自身一路野蛮生长”相呼应，符合语意。

故本题选D。

25

.【答案】B

【解析】先看第二空，“一本万利”指本钱很小、利润很大，“一蹴而就”形容事情轻而易举，一下子就能完成，此处讲促进农产品增产和多元化提供，可以有效解决冗余劳动力和农产品短缺问题，未涉及利润问题，也未谈到能快速解决，二者均不符合语意，排除A、D项。

再看第一空，“汲取”指吸取，通常搭配营养、经验等，无法与“劳动力”搭配，排除C项。

验证B项，“吸纳”指吸收和接纳，通常与“人才”搭配，“吸纳劳动力”符合搭配；“一举两得”指做一件事，通常能得到两方面的好处，符合语意。

故本题选B。

26

.【答案】A

【解析】先看第一空，“按部就班”指按照一定的条理、遵循一定的程序，“锱铢必较”多形容过于吝啬或气量小，此处形容莫兰迪静静守在工作室里研习的艺术家形象，二者均不符合语意，排除C、D项。

再看第二空，横线前为“从最简单的器皿中”，“发掘”通常与“土壤”等搭配使用，“器皿”用“发掘”程度过重，不够形象，排除B项。

验证A项，“孜孜不倦”指工作或学习勤奋刻苦不知疲倦，“寻找艺术之‘道’”搭配得当，二者均符合语意。

故本题选A。

27

.【答案】A

【解析】先看第二空，此处讲当前我国的社会管理既缺国际化也缺本土化，所以探索社会管理的中国式创新之道，将会是未来一段时间转型社会治理都会讨论的话题，“如日中天”比喻事物正在最兴盛的时候，“盛极一时”形容一时特别兴盛或流行，“最兴盛”和“一时兴盛”都无从体现，排除B、D项。

再看第一空，“磨合”比喻在彼此合作的过程中逐渐相互适应、协调，“锤炼”指磨炼，由横线前主体“国际化与本土化”可知，两者是有一定冲突的，所以需要彼此在合作中逐渐协调与适应，“磨合”更符合语意，排除C项。

验证A项第二空，“方兴未艾”形容事物正在蓬勃发展，一时不会终止，符合语意。

故本题选A。

.【答案】C

【解析】先看第一空，此处讲针对当前社会信用体系出现概念混淆甚至误用的情况，需要明确重要概念，“辨析”指辨别分析，体现不出进一步明确概念之义，排除A项；“肃清”指彻底消除，通常对象为坏人、坏事、坏思想，不符合语意，排除B项。

再看第三空，“聚焦”比喻视线、注意力等集中于一点，如“聚焦社会热点”，且“凝聚社会共识”为常见搭配，排除D项。

验证C项第一、二空，“廓清”指澄清，意思为搞清楚、弄明白，符合语意；“厘清”指梳理清楚，用在此处指要梳理清楚经济信用和社会信用不同机制间的关系，以消除不必要的分歧，符合语意。

故本题选C。

.【答案】D

【解析】先看第一空，由后文“如同在这个世界的坚壳上撬开了一条缝”可知，弗洛伊德的心理疗法带来了新的变化，“蹈常习故”指按照老规矩和老办法办事，不知变通，明显不符合语意，排除B项。

再看第二空，“冲动”指情感特别强烈的心理现象，此处形容袅袅而出的梦境，不符合语意，排除A项。最后看第三空，此处讲现实里难以释放的生命不可承受之重，可以在梦里释放，“倾泻”指大量的水很快地从高处流下，“宣泄”指舒散、吐露，比较而言，“宣泄”更符合语意，与“难以释放”相对，排除C项。

验证D项第一、二空，“独树一帜”指自成一家，用在此处形容弗洛伊德的心理疗法具有创新性，符合语意；“涌动”指水向上翻滚涌动或云气升腾移动，与后文“像一缕烟，袅袅而出”呼应，符合语意。

故本题选D。

.【答案】D

【解析】先看第一空，“滋润”“见证”均无法与“巨人”搭配，“滋润”的对象通常为物，“见证”的正确用法为“见证了一代又一代文化巨人的成长”，排除A、C项。

再看第二空，“迸发”指由内而外地突然发出，此处讲长江有着万古不灭的奇光异彩，“突然发出”不符合语意，排除B项。

验证D项，“哺育”指培养，可以与“人”搭配；“放射”指由一点向四外射出，“放射奇光异彩”符合语意；“绵绵不绝”形容连续不断，用在此处指中华文脉绵延不绝，符合语意。

故本题选D。

.【答案】D

【解析】考查指示代词的指代内容，首先考虑就近原则。定位文段，前文讲中国未来的健康发展有赖于国家、市场与社会间形成彼此互补、各尽其长的良性关系，紧接着讲“要想形成这样的关系”，说明“这样的关系”指代的就是前文内容，D项正确。其他三项均与“关系”无关。

故本题选D。

32

.【答案】C

【解析】A项有介绍，由“选择是编辑工作的重要环节”可知。

B项有介绍，由尾句可知，编辑工作的主要内容有发现好作者、发现好作品、发现新的审美元素和思想火花。

C项编辑工作的难易程度文段未介绍。

D项有介绍，由“编辑选择不仅影响作家队伍的构成，还会直接影响作品的品质和风格”可知，编辑工作直接影响着作家和作品的品质。

故本题选C。

33

.【答案】A

【解析】由文段“陈设多达286件”“多达130件”“大约有2700件”等数据可知，文段使用数据清晰地论证了乾隆收藏钟表的数量之多，锁定A项。

故本题选A。

34

.【答案】C

【解析】文段开篇提出研究人员呼吁让锻炼成为治疗抑郁症的主要方法，随后通过各项研究结果具体论证该观点，因此，最适合做这段文字标题的是C项，明确指出锻炼比药物对治疗抑郁更有效。

A项“有氧运动”仅为体育活动和锻炼的一种方式，B、D项未提及“治疗抑郁症”。

故本题选C。

35

.【答案】D

【解析】文段首先讲人工智能虽然具有强大的聊天系统，但是其对知识的真正掌握程度并不高，因为有大量模糊甚至错误的信息混杂在聊天系统中，人工智能并不能准确察觉，相反，人类经过专业的判断和思考后的回答更加准确，继而更加珍贵。因此，人工智能诸多技术的不确定性更是需要人类来解决，可见，文段主要论述人工智能本身仍有“缺陷”，并不能完全取代人类，只有D项强调人的重要性，填入后最符合语意。

A项与文段论述不一致，文段强调人类优于人工智能的是对知识真正的掌握程度，而非语言；B项与文段论述相悖，仅从人类具有的专业判断力和准确的思考，聊天系统无法取代人类，更不会引起“失业潮”；C项填入后无法与前文衔接，前文论述是需要人类专业、全局的判断能力，而非知识如何获取。

故本题选D。

36

.【答案】B

【解析】横线置于文段中间，应与前后文有着紧密的衔接关系。横线前讲灾害文化表现出来的各种灾害祈祷和祭祀仪式体现出其目的在于禳灾、祛灾，横线后讲灾害文化既能体现古代国家的社会治理能

力，也是古代国家治理能力所展现的特殊文化现象。可见，文段前后都围绕“灾害文化”展开论述，只有B项与“灾害文化”有关，论述禳灾、祛灾的背后展现了古人的精神力量，“禳弥灾异”紧密承接前文，填入后最符合语意。

A、C、D项均与“灾害文化”无关。

故本题选B。

37

.【答案】C

【解析】通读6个句子，⑤讲日本借鉴中国类书的编纂形式创造出属于自己的汉文类书，①讲中日两国汉文类书的互通共同促进东亚文化圈的繁荣，按照逻辑顺序，应先创造出汉文类书，再谈其产生的影响，则⑤应在①前，排除A、B项。再看其他句子，④讲类书因其自身优势，成为汉籍东传的耀眼之星，⑤讲日本借鉴类书创造自己的汉文类书，按照逻辑顺序，应先传入日本，再讲日本的创造，则④在⑤前，排除D项。

验证C项，符合语句逻辑顺序。

故本题选C。

38

.【答案】D

【解析】通读6个句子，②由“也就是说”引导，指出包里又增添了一分神秘度，显然是对⑥“包里多一件小物”的进一步阐述，则②紧随⑥后，排除A项。④“但”引导指出无线耳机并不比有线耳机的麻烦少，是对有线耳机“麻烦”的转折，而有线耳机的“麻烦”集中体现在③中，则④必然在③后，排除C项。

比较B、D项，①分别对有线耳机、无线耳机与手机的关系进行形象地比喻，对应的是③和④的内容，则①衔接③④最贴切，排除B项。

验证D项，符合语句逻辑顺序。

故本题选D。

39

.【答案】A

【解析】通读7个句子，⑤⑦均为举例论证洞察和运用规律如何制胜，前者列举有名的统帅和战将，后者列举有名的军事名著，二者话题一致，且⑦含有“也”，则⑤在⑦前，排除B项。再看其他句子，③以“都”开头，无法直接承接①或⑥，排除C、D项。

验证A项，符合语句逻辑关系。

故本题选A。

40

.【答案】C

【解析】本题考查相遇追及问题。

第一步：审阅题干。追及路程相同，已知乙、丙的追及时间，可设未知数求解。

第二步：设甲驾驶的帆船速度为每小时x千米，则可列式 $(12-x) \times 2.5 = (15-x) \times 1.5$ ，解得 $x=7.5$ 。

因此乙、丙二人出发时，甲已经航行了 $(12-7.5) \times 2.5=11.25$ 千米。

故本题选C。

41

. 【答案】A

【解析】 本题考查日期问题。

第一步：审阅题干。第150天为某月的最后一天，即共用了5个月（150天约为5个月）。

第二步：若连续的5个月中不含有小于30天的月份，则不满足第150天为某月的最后一天，即其中有一个月为2月（28天），两个月为31天，满足条件的情况为2月、3月、4月、5月、6月。则6月30日为星期天，2月1日为星期五（ $150 \div 7=21$ 周……3天）。因此他计划开始任务的月份是第一日为周五的二月。

故本题选A。

42

. 【答案】B

【解析】 本题考查倍数。

第一步：审阅题干。总人数不变，可根据粗调查与详细走访前后的比例变化设未知数求解。

第二步： $1+6=7$ ， $13+15=28$ 。设被调查的老人共有 $28x$ 人，则粗调查时有准备药品的老人人数为 $28x \div 7 \times 1=4x$ ，详细走访了解后有准备药品的老人人数为 $28x \div 28 \times 13=13x$ ，可得 $13x-4x=27$ ，解得 $x=3$ 。因此被调查的老人共有 $3 \times 28=84$ 人。

故本题选B。

43

. 【答案】C

【解析】 本题考查倍数。

第一步：审阅题干。香菇与酱油的数量不变，则可设未知数求解。

第二步：设按照5包香菇和2瓶酱油搭配可搭配 x 套，按照7包香菇和2瓶酱油搭配可搭配 y 套，则可列式

$$\begin{cases} 5x+8=7y \\ 2x=2y+12 \end{cases}$$
，解得 $x=25$ ， $y=19$ 。因此用于促销的香菇共有 $7 \times 19=133$ 包。

故本题选C。

44

. 【答案】C

【解析】 本题考查平面几何问题。

第一步：审阅题干。石子带围成的正方形与空心正方形图案的边长相差 $2 \times 0.5=1$ 米，空心正方形图案的边长是每块正方形绿植砖的边长的4倍（12块正方形绿植砖围成的空心正方形图案每边有4块正方形绿植砖）。

第二步：石子带围成的正方形边长为 $36 \div 4=9$ 米，则空心正方形图案的边长为 $9-1=8$ 米，每块正方形绿植砖的边长为 $8 \div 4=2$ 米。因此12块绿植砖的占地面积为 $2 \times 2 \times 12=48$ 平方米。

故本题选C。

45

. 【答案】D

【解析】本题考查基期计算。

第一步：查找相关材料。题干命题点的对应材料在第一段，即2022年，全国规模以上工业企业实现利润总额84038.5亿元，比上年下降4.0%。

第二步：根据已知条件解题。根据公式基期量 $=\frac{\text{现期量}}{1+\text{增长率}}$ 可得，2021年全国规模以上工业企业实现利润总额为 $\frac{84038.5}{1-4.0\%}\approx 84038.5+84000\times 4\%=84038.5+3360=87398.5$ 亿元，大于87000亿元。

故本题选D。

46

. 【答案】A

【解析】本题考查基础增长率。

第一步：查找相关材料。题干命题点的对应材料在最后一段，即2022年末全国规模以上工业企业每百元资产实现的营业收入为92.4元，比上年减少2.9元。

第二步：根据已知条件解题。根据公式增长率 $=\frac{\text{增长量}}{\text{现期量}-\text{增长量}}\times 100\%$ 可得，2022年末全国规模以上工业企业每百元资产实现的营业收入同比下降 $\frac{2.9}{92.4+2.9}\times 100\%\approx \frac{3}{95}\times 100\%\approx 3.2\%$ ，A项与之最接近。

故本题选A。

47

. 【答案】C

【解析】本题考查查找数据。

第一步：查找相关材料。题干命题点的对应材料在第二、六、八段，即2022年规模以上工业企业中，国有控股企业实现利润总额比上年增长3.0%，营业收入较上年增长8.4%；股份制企业实现利润总额下降2.7%，营业收入较上年增长7.0%；外商及港澳台商投资企业实现利润总额下降9.5%，营业收入较上年增加1.3%；私营企业实现利润总额下降7.2%，营业收入较上年增加3.3%。负债合计88.30万亿元，所有者权益合计67.82万亿元。规模以上工业企业每百元营业收入中的成本为84.72元；每百元营业收入中的费用为8.20元。

第二步：根据已知条件解题。A项错误：负债合计（88.30万亿元）>所有者权益合计（67.82万亿元），排除。B项错误：股份制企业实现利润总额下降2.7%，增速为负数，排除。C项正确，柱状图绘制符合数据情况，当选。D项错误：每百元营业收入中的成本（84.72元）是每百元营业收入中的费用（8.20元）的 $84.72\div 8.20>10$ 倍，柱状图绘制与数据不符，排除。

故本题选C。

48

. 【答案】C

【解析】本题考查现期比重。

第一步：查找相关材料。题干命题点的对应材料在第六段，即2022年末，规模以上工业企业资产总计156.12万亿元，负债合计88.30万亿元。

第二步：根据已知条件解题。横线处所求为2022年末规模以上工业企业资产负债率，为 $\frac{88.30}{156.12}\times 100\%\approx$

$\frac{90}{160} \times 100\% \approx 56.3\%$, C项与之最接近。

故本题选C。

49

.【答案】B

【解析】本题考查综合分析。

①错误：根据材料第九段可知，2022年末规模以上工业企业产成品存货周转天数为17.6天，比上年增加0.9天；应收账款平均回收期为52.8天，比上年增加3.5天。产成品存货周转天数同比增长率为 $\frac{0.9}{17.6-0.9} = \frac{0.9}{16.7} = \frac{0.9 \times 3}{16.7 \times 3} = \frac{2.7}{50.1} \times 100\%$ ，应收账款平均回收期同比增长率为 $\frac{3.5}{52.8-3.5} = \frac{3.5}{49.3} \times 100\%$ ，根据分子分母反向比较可知，前者小于后者，排除。

②正确：根据材料第三段可知，2022年制造业实现利润总额的同比变化量为 $\frac{64150.2}{1-13.4\%} \times 13.4\% \approx \frac{64150}{1-\frac{1}{7.5}} \times \frac{1}{7.5} = \frac{64150}{6.5} \approx 9869$ 亿元，采矿业与电力、热力、燃气及水生产和供应业实现利润总额的同比变化量之和为 $\frac{15573.6}{1+48.6\%} \times 48.6\% + \frac{4314.7}{1+41.8\%} \times 41.8\% \approx \frac{15600}{1+\frac{1}{2}} \times \frac{1}{2} + \frac{4300}{1+\frac{1}{2.5}} \times \frac{1}{2.5} = \frac{15600}{3} + \frac{4300}{3.5} \approx 6429$ 亿元，前者大于后者，当选。

③错误：根据材料第四段可知，2022年主要行业利润总额中，同比上涨的行业有：石油和天然气开采业、电力、热力生产和供应业、煤炭开采和洗选业、电气机械和器材制造业、专用设备制造业、汽车制造业、通用设备制造业、农副食品加工业，共8个；下降的行业有：化学原料和化学制品制造业、计算机、通信和其他电子设备制造业、非金属矿物制品业、有色金属冶炼和压延加工业、纺织业、石油、煤炭及其他燃料加工业、黑色金属冶炼和压延加工业，共7个，前者大于后者，排除。

综上，说法正确的有②，共1个。

故本题选B。

50

.【答案】A

【解析】本题考查比值作差。第一步：查找相关材料。题干命题点的对应材料在文字材料第一段，即2021年全国各地人民法院新收知识产权一审案件57.7万件，较上年增长23.5%；审结知识产权一审案件54.1万件，较上年增长16.1%。第二步：根据已知条件解题。根据公式两期比值差值= $\frac{A}{B} \times \frac{a-b}{1+a}$ 可知，2021年全国各地人民法院新收知识产权一审案件与审结知识产权一审案件数量的比值较上年提高了

$\frac{57.7}{54.1} \times \frac{23.5\% - 16.1\%}{1 + 23.5\%} \approx \frac{58}{54} \times \frac{0.07}{1.2} \approx 0.06$ 。

故本题选A。

51

.【答案】A

【解析】本题考查综合分析。

A项错误：根据文字材料第二段可知，2021年全国市场监管部门共查处知识产权领域违法案件5.2274万件，其中，查处专利违法案件1.0万件。则其他种类案件数量的总和为 $5.2274 - 1 = 4.2274$ 万件，前者小于后者，当选。

B项正确：根据文字材料第二段可知，2021年商标违法案件数量是侵犯商业秘密案件数量的 $\frac{40000}{50} = 800$ 倍，排除。

C项正确：根据文字材料第二段可知，2021年专利违法案件数量同比增长41.7%，侵犯商业秘密案件同比增长72.4%，前者小于后者，排除。

D项正确：根据文字材料第二段可知，2021年仿冒混淆案件数量占知识产权领域违法案件总数的 $\frac{2224}{52274} \times 100\% \approx \frac{20}{500} = 4\%$ ，排除。

故本题选A。

52

.【答案】C

【解析】本题考查增长量计算。

第一步：查找相关材料。题干命题点的对应材料在表格，即2021年每万人口拥有的维持年限超过10年发明专利有效量为32.3万件，同比增长27.7%。

第二步：根据已知条件解题。根据公式增长量 $=\frac{\text{现期量}}{1+\text{增长率}} \times \text{增长率}$ 可知，2021年我国每万人口拥有的维持年限超过10年发明专利有效量较上年增加了 $\frac{32.3}{1+27.7\%} \times 27.7\% \approx \frac{32}{1.28} \times 0.28 = 7$ 万件，C项与之最接近。

故本题选C。

53

.【答案】A

【解析】本题考查现期比值。

第一步：查找相关材料。题干命题点的对应材料在柱状图，即2016年~2021年每年知识产权费用进口额与出口额。

第二步：根据已知条件解题。2016年我国知识产权使用费出口额与进口额之比为 $\frac{78}{1593} \approx \frac{80}{1590} \approx 0.05$ ，2017年为 $\frac{322}{1930} \approx \frac{320}{1900} \approx 0.17$ ，2018年为 $\frac{368}{2355} \approx \frac{370}{2300} \approx 0.16$ ，2016~2018年我国知识产权使用费出口额与进口额之比先增加后减少，只有A项符合。

故本题选A。

54

.【答案】D

【解析】本题考查综合分析。

A项错误：根据文字材料第一段可知，2021年全国知识产权民事一审案件服判息诉的案件数量为 $54.1 \times 90.5\% \approx 54 \times 90\% = 48.6$ 万件，排除。

B项错误：根据文字材料第二段可知，2021年全国知识产权系统共处理专利侵权纠纷行政裁决案件的同比增长量为 $\frac{49800}{1+17.4\%} \times 17.4\% = 49800 \times \frac{17.4}{117.4} > 49800 \times \frac{1}{7} = 49800 \times \frac{17}{17 \times 7} = 49800 \times \frac{17}{119} > 7000$ 件，排除。

C项错误：根据文字材料第二段可知，2020年每万人口高价值发明专利拥有量中，在海外有同族专利权发明专利为 $\frac{8.3}{1+21.8\%} < \frac{8.3}{1.2} \approx 6.9$ 万件，排除。

D项正确：根据柱状图可知，2021年我国知识产权使用费进口额为3021亿元，2020年为2596亿元，2019年为2372亿元，2018年为2355亿元。2021年我国知识产权使用费进口额同比增长率为 $\frac{3021-2596}{2596} \times 100\% =$

$\frac{425}{2596} \times 100\%$ ，2019年为 $\frac{2372-2355}{2355} \times 100\% = \frac{17}{2355} \times 100\%$ ， $\frac{425}{2596}$ 与 $\frac{17}{2355}$ 相比，前者分子是后者的10倍以上，分母不足后者的2倍，可知前者大于后者，当选。

故本题选D。

55

. 【答案】C

【解析】 本题考查数量类规律。

第一步：观察图形。题干各图形组成线条较凌乱，均含有曲线和直线，优先考虑数量类规律。第一组图形中曲直交点数依次为：2、3、4，第二组前两个图形中曲直交点数依次为：5、6，则问号处图形中曲直交点数应为7。

第二步：分析选项，确定答案。

A项：曲直交点数为12，排除。

B项：曲直交点数为4，排除。

C项：曲直交点数为7，当选。

D项：曲直交点数为11，排除。

故本题选C。

56

. 【答案】C

【解析】 本题考查数量类规律。

第一步：观察图形。题干各图形组成元素均为黑白球，无明显位置类和属性类规律，考虑数量类规律。

第二步：分析各组图形的数量类规律。①④⑤图形中黑球数量均为奇数，②③⑥图形中黑球数量均为偶数。

故本题选C。

57

. 【答案】B

【解析】 本题考查位置类规律。

第一步：观察图形。题干各图形元素组成相同，优先考虑位置类规律。题干九宫格第一行每个元素依次顺时针移动一格，且三角形依次顺时针旋转90°得到下一个图形；第二行每个元素依次顺时针移动两格，且三角形依次顺时针旋转90°得到下一个图形；第三行第一个图形每个元素依次顺时针移动三格，且三角形顺时针旋转90°得到第二个图形，问号处图形遵循此规律。

第二步：分析选项，确定答案。

A项：不符合题干移动规律，排除。

B项：符合题干移动规律，当选。

C项：不符合题干移动规律，排除。

D项：不符合题干移动规律，排除。

故本题选B。

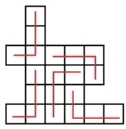
58

. 【答案】A

【解析】 本题考查拼接类规律。

第一步：阅读题干。根据题干信息可知为拼接类规律。

第二步：分析图形。根据题干图形左上角和右下角的特征，一定会用到图④。根据题干要求用最少种类进行拼合，则尝试均用图④拼合。如下图所示，用图④这1种俄罗斯方块即可拼成题干图形。



故本题选A。

59

. 【答案】B

【解析】本题考查位置类规律。

第一步：观察图形。题干各图形元素组成相同，优先考虑位置类规律。

第二步：分析各组图形的位置类规律。①④⑤图形均由同一个图形旋转得到，②③⑥图形均由同一个图形旋转得到。

故本题选B。

60

. 【答案】B

【解析】本题考查心理类定义判断。

第一步：分析定义要点。“优势反应”的定义要点是“熟练程度极高、遇到某种刺激不加思考就做出的习惯性动作”。

第二步：分析选项，确定答案。

①：锤子砸到手，立马甩手缓解疼痛没有体现熟练程度极高，属于本能反应，不符合定义要点。

②：只要碰到不认识的单词就标记个问号，属于遇到某种刺激做出习惯性动作，符合定义要点。

③：回到家想打游戏但坚持先将未完成的工作做完，并没有体现不加思考做出习惯性动作，不符合定义要点。

综上，属于优势反应的是②，共1项。

故本题选B。

61

. 【答案】D

【解析】本题考查人文类定义判断。

第一步：分析定义要点。“史学遗产”的定义要点是“通过各种载体流传下来的前人从事史学活动的总成果”。

第二步：分析选项，确定答案。

A项：《史通》是我国历史上第一部史学理论专著，属于通过各种载体流传下来的前人从事史学活动的总成果，符合定义要点，排除。

B项：南宋袁枢撰《通鉴纪事本末》，首创纪事本末体，朱熹著《资治通鉴纲目》，开创纲目体，属于通过各种载体流传下来的前人从事史学活动的总成果，符合定义要点，排除。

C项：黄宗羲等人的史学思想和理论反映了清朝历史思想新的发展，属于通过各种载体流传下来的前人从事史学活动的总成果，符合定义要点，排除。

D项：张骞出使西域，加强了汉夷文化的交往，并未涉及前人从事史学活动方面的成果，不符合定义要点，当选。

故本题选D。

62

.【答案】A

【解析】本题考查社会类定义判断。

第一步：分析定义要点。“鳄鱼法则”的定义要点是“遭受损失时应及时止损”。

第二步：分析选项，确定答案。

①：某大型国企招聘高管，引进了许多新的管理理念，并未涉及遭受损失，不符合定义要点。

②：职工老李竞争单位领导职位失败后辞职，竞争领导失败不等同于遭受损失，未体现该单位对于老李来说是受损的环境，不符合定义要点。

③：老王退休后把积蓄都投入股市，近期牛市，说明股市前景乐观，未涉及遭受损失，不符合定义要点。

④：失主感谢老李的帮助，没有体现遭受损失时应及时止损，不符合定义要点。

综上，①②③④均未体现鳄鱼法则。

故本题选A。

63

.【答案】C

【解析】本题考查社会类定义判断。

第一步：分析定义要点。“技能交换”的定义要点：①用自己掌握的技能交换别人掌握的技能；②达到互相学习的目的。

第二步：分析选项，确定答案。

A项：陈医生利用空余时间学习短视频制作，以便向更多的患者科普医学常识，未体现陈医生用自己掌握的技能交换别人掌握的技能，不符合①，排除。

B项：王先生给陈小姐免费拍艺术照片，同时他要求陈小姐能免费教其女儿弹钢琴，没有体现王先生与陈小姐互相学习，不符合②，排除。

C项：李大姐在向邻居免费学习烹饪的同时，也向邻居传授了金融理财的专业知识，符合①②，符合定义要点，当选。

D项：小张购买了考研辅导资料后共享给室友，未涉及用自己掌握的技能交换别人掌握的技能，不符合①，排除。

故本题选C。

64

.【答案】D

【解析】本题考查人文类定义判断。

第一步：分析定义要点。“汇编作品”的定义要点是“汇编若干作品、作品的片段或者不构成作品的数据或者其他材料”。

第二步：分析选项，确定答案。

①：《古文观止》是清代吴楚材、吴调侯于康熙三十三年选定的古代散文选本，收自东周至明代的文章222篇，符合定义要点。

②：《南宋经典书画集锦》汇编了若干南宋的书画作品，符合定义要点。

③：《现代汉语词典》汇编了若干词语、成语，符合定义要点。

④：《优秀科幻文学作品集》汇编了若干科幻文学作品，符合定义要点。

综上，①②③④均属于汇编作品，共有4个。

故本题选D。

65

.【答案】C

【解析】本题考查心理类定义判断。

第一步：分析定义要点。“墨汁效应”的定义要点是“人们往往会只因为一个错误和一件事情就去否定别人，哪怕这个人之前做得再好”。

第二步：分析选项，确定答案。

A项：小李对自己的错误感到自责，未涉及他人对自己的否定，不符合定义要点，排除。

B项：老师认为小王高考能取得好成绩，没有体现老师对小王进行否定，不符合定义要点，排除。

C项：小赵经常光顾的某餐厅价格上涨，便认为餐厅老板不厚道，体现出小赵因价格上涨就去否定餐厅老板，符合定义要点，当选。

D项：流水线工人因操作失误受伤，领导便让其休息养伤，没有体现领导对工人进行否定，不符合定义要点，排除。

故本题选C。

66

.【答案】B

【解析】本题考查社会类定义判断。

第一步：分析定义要点。“中兴”的定义要点：①在国力下滑的过程中；②如果开创盛世的帝王本人，或者后面的继承者改变政策，重新励精图治，在王朝发展的中后期就会出现国力“反败为胜”的局面。

第二步：分析选项，确定答案。

A项：汉文帝登基后，汉朝还没有从秦末农民战争的创伤中完全恢复过来，说明在国家发展初期，没有体现国力下滑，不符合①，排除。

B项：汉武帝末年，由于长时期攻打匈奴和施行严刑峻法，阶级矛盾日益尖锐，农民起义不断，民怨沸腾，符合①，汉武帝便下了罪己诏，宣布与民休息，后来经过汉昭帝和汉宣帝两代帝王的励精图治，西汉在汉宣帝时期国力重新恢复，符合②，符合定义要点，当选。

C项：唐玄宗登基后，励精图治，让唐朝在各方面都达到了极高的水平，国力空前强盛，社会经济空前繁荣，人口大幅度增长，没有体现国力下滑，不符合①，排除。

D项：北宋和辽缔结澶渊之盟，促进了宋辽之间的经济文化交流，没有体现国力下滑，不符合①，排除。

故本题选B。

67

.【答案】C

【解析】本题考查社会类定义判断。

第一步：分析定义要点。“资源节约”的定义要点是“采用环保材料，减少建筑物对土地、水资源和原材料的占用，最大限度地减少资源消耗和浪费”。

第二步：分析选项，确定答案。

A项：调控室内温度降低冬天供暖及夏天制冷所导致的能耗，是采用高效节能技术，不是采用环保材料，不符合定义要点，排除。

B项：乙医院充分利用每一个空间来创造绿色医疗环境，没有体现采用环保材料，不符合定义要点，排除。

C项：雨水系统将场地内雨水引入下凹式绿地、屋顶花园及蓄水池等生态设施，供绿地浇洒、景观用水、车库及道路冲洗，符合采用环保材料减少建筑物对水资源的占用，最大限度地减少资源消耗和浪费，符合定义要点，当选。

D项：按照当地的建筑环境，充分尊重当地的习俗，充分尊重人文环境和自然环境的融合，使得丁博物馆成为当地的一个标志性建筑，考虑了建筑的社会影响，不符合定义要点，排除。

故本题选C。

68

.【答案】C

【解析】本题考查经济类定义判断。

第一步：分析定义要点。“保护贸易”的定义要点是“国家采取各种措施干预对外贸易，以保护本国市场免受外国商品的竞争”。

第二步：分析选项，确定答案。

A项：RCEP即区域全面经济伙伴关系协定，是亚太地区规模最大、最重要的自由贸易协定，不符合定义要点，排除。

B项：进口商品“免申报”“零关税”政策，没有体现保护本国市场免受外国商品的竞争，不符合定义要点，排除。

C项：乙国对从丙国进口的计算机产品征收的关税是最惠国的2倍，说明乙国采取征收高关税的措施来干预对外贸易，保护本国市场免受外国商品的竞争，符合定义要点，当选。

D项：取消戊国农产品进入丁国的市场限制并给予最惠国待遇，没有体现保护本国市场免受外国商品的竞争，不符合定义要点，排除。

故本题选C。

69

.【答案】C

【解析】 本题考查心理类定义判断。

第一步：分析定义要点。

“形象记忆”的定义要点是“对感知过的事物具体形象的记忆”。

“逻辑记忆”的定义要点是“对概念、公式、规律等逻辑思维过程为内容的记忆”。

“情绪记忆”的定义要点是“对自己体验过的情绪和情感的记忆”。

“动作记忆”的定义要点是“对身体运动状态和动作技能的记忆”。

第二步：分析选项，确定答案。

A项：余音绕梁三日不绝于耳是对声音的记忆，属于自己感知过的事物，符合形象记忆的定义要点，说法正确，排除。

B项：质量守恒定律的定义是一种概念，符合逻辑记忆的定义要点，说法正确，排除。

C项：记录参加科学营的开心经历，属于对自己体验过的情绪和情感的记忆，符合情绪记忆的定义要点，说法错误，当选。

D项：对拳术一招一式的记忆，属于对身体运动状态和动作技能的记忆，符合动作记忆的定义要点，说法正确，排除。

故本题选C。

70

. **【答案】** C

【解析】 本题考查组成关系。

第一步：分析题干词语间的关系。滤芯是净水器的组成部分，二者为组成关系。

第二步：分析选项，确定答案。

A项：商人和社会无明显联系，排除。

B项：在医院进行手术，二者为场所关系，排除。

C项：发动机是汽车的组成部分，二者为组成关系，当选。

D项：古迹是一种遗产，二者为种属关系，排除。

故本题选C。

71

. **【答案】** D

【解析】 本题考查反对关系。

第一步：分析题干词语间的关系。水钟与沙漏都是计时仪器，二者为反对关系。

第二步：分析选项，确定答案。

A项：饭盒可以放在冰箱里，二者为场所关系，排除。

B项：雨伞与眼镜无明显联系，排除。

C项：颜料是制作油画的材料，二者为材料关系，排除。

D项：狼烟与信号灯都是传递信息的工具，二者为反对关系，当选。

故本题选D。

72

.【答案】C

【解析】本题考查因果关系。

第一步：分析题干词语间的关系。违规执业会受到行政处罚，二者为因果关系。

第二步：分析选项，确定答案。

A项：治疗疾病不是测量血压的结果，二者不为因果关系，排除。

B项：乱砍滥伐会导致水土流失，二者为因果关系，但词语前后顺序与题干相反，排除。

C项：见义勇为会受到交口称赞，二者为因果关系，当选。

D项：商品滞销会导致工厂倒闭，二者为因果关系，但词语前后顺序与题干相反，排除。

故本题选C。

73

.【答案】D

【解析】本题考查种属关系、反对关系。

第一步：分析题干词语间的关系。智能窗帘与智能门锁为反对关系，二者均属于智能家居。

第二步：分析选项，确定答案。

A项：图形、文字与表格是三种不同的内容呈现形式，三者为反对关系，排除。

B项：扎染、刺绣与印花是三种不同的手工艺形式，三者为反对关系，排除。

C项：太平洋、印度洋与大西洋为反对关系，排除。

D项：人类与鳄鱼为反对关系，二者均属于脊椎动物，当选。

故本题选D。

74

.【答案】D

【解析】本题考查人文地理类。

第一步：分析题干词语间的关系。孙武被尊称为兵圣，二者为全同关系；孙武是三令五申涉及到的主人公。

第二步：分析选项，确定答案。

A项：孟子被尊称为亚圣，但韦编三绝涉及到的主人公是孔子，排除。

B项：顾恺之被尊称为画祖、画圣，但画龙点睛涉及到的主人公是张僧繇，排除。

C项：范蠡被尊称为商圣，而非吕不韦，排除。

D项：关羽被尊称为武圣，二者为全同关系；关羽是绝伦逸群涉及到的主人公，当选。

故本题选D。

75

.【答案】B

【解析】本题考查主谓关系。

第一步：分析题干词语间的关系。战士瞄准、战士射箭，均为主谓关系。

第二步：分析选项，确定答案。

A项：授课是一种教学形式，与题干逻辑关系不一致，排除。
B项：厨师调味、厨师烹饪，均为主谓关系，与题干逻辑关系一致，当选。
C项：工人组装零件，三者构成主谓宾短语，与题干逻辑关系不一致，排除。
D项：教授发布论文，三者构成主谓宾短语，与题干逻辑关系不一致，排除。
故本题选B。

76

. 【答案】B

【解析】本题考查全同关系。

选项逐一代入。

A项：鸽子树象征和平，牡丹象征富贵，但词语前后位置相反，排除。
B项：珙桐俗称鸽子树，二者为全同关系，牡丹俗称富贵花，二者为全同关系，当选。
C项：鸽子树的叶状苞片是白色的，牡丹的花朵是红色的，但词语前后位置相反，排除。
D项：鸽子树没有花瓣，与单瓣无明显联系，重瓣是牡丹的一种形态，排除。
故本题选B。

77

. 【答案】B

【解析】本题考查近义关系。

选项逐一代入。

A项：“阳春白雪”泛指高雅的文学艺术，与报恩无明显联系，“高山流水”比喻知己或知音，也比喻乐曲高妙，与恩爱无明显联系，排除。
B项：“结草衔环”比喻感恩报德，至死不忘，与报恩为近义关系，高山流水与知音为近义关系，前后逻辑关系一致，当选。
C项：“五体投地”比喻佩服到了极点，与报恩无明显联系，高山流水与忠诚无明显联系，排除。
D项：“鞠躬尽瘁”指恭敬谨慎，竭尽心力，与报恩无明显联系，高山流水与休闲无明显联系，排除。
故本题选B。

78

. 【答案】A

【解析】本题考查其他关系。

选项逐一代入。

A项：“祥鸡瑞凤临宝地”与“紫气金光绕福门”是一副对联的上下联，“和顺一门有百福”与“平安二字值千金”是一副对联的上下联，前后逻辑关系一致，当选。
B项：祥鸡瑞凤临宝地与一年四季春常在无明显联系，“和顺一门有百福”与“平安二字值千金”是一副对联的上下联，排除。
C项：“祥鸡瑞凤临宝地”与“紫气金光绕福门”是一副对联的上下联，万紫千红花永开与平安二字值千金无明显联系，排除。
D项：祥鸡瑞凤临宝地与一年四季春常在无明显联系，万紫千红花永开与平安二字值千金无明显联系，

排除。

故本题选A。

79

.【答案】C

【解析】 本题考查反对关系。

第一步：分析题干词语间的关系。

①②③是三个独立的集合且范围大小一致，三者为反对关系。

第二步：分析选项，确定答案。

A项：键盘与鼠标是计算机的组成部分，①和②③为组成关系，与题干关系不一致，排除。

B项：公司是企业的一种组织形式，国有企业与公司不为反对关系，与题干关系不一致，排除。

C项：采矿业、制造业和建筑业是三种不同的产业，三者为反对关系，与题干关系一致，当选。

D项：博士是研究生的一种，二者为种属关系，与题干关系不一致，排除。

故本题选C。

80

.【答案】D

【解析】 本题考查解释类。

第一步：分析题干矛盾现象。

矛盾现象：为减少交通违法行为，该国出台了更严格的交规，但此交规出台后，违法行为并没有得到有效遏制。

第二步：分析选项，确定答案。

A项：指出闯红灯是交通违法行为，与出台更严格的交规但违法行为并没有得到有效遏制无关，不能解释题干矛盾现象，排除。

B项：指出大部分人的出行方式是骑电动车，与出台更严格的交规但违法行为并没有得到有效遏制无关，不能解释题干矛盾现象，排除。

C项：指出电子抓拍设备灵敏度不够高，但抓拍设备不是唯一能够发现违法行为的方式，还有交警检查等，不能解释题干矛盾现象，排除。

D项：指出交规无法改变“违法性格”，说明即便出台了更严格的交规，也无法有效遏制违法行为，最能解释题干矛盾现象，当选。

故本题选D。

81

.【答案】D

【解析】 本题考查削弱类。

第一步：分析题干论点、论据。

论点：消费借贷的信息呈现方式是影响受访者决定的主要因素。

论据：当受访者只看到每个月的利息数额时，他们为消费透支或借贷的意愿会比较强烈；而当研究人员向他们展示相关借贷可能带来的年度成本时，受访者的借贷意愿会减弱。

第二步：分析选项，确定答案。

A项：指出增强相关信息透明度比提升债务人的金融知识水平，更能左右债务人对借贷的决定，与消费借贷的信息呈现方式无关，排除。

B项：指出缺乏信息透明度会影响金融机构间的公平竞争和金融业创新，与题干论点无关，排除。

C项：指出无论是使用支票账户的透支功能还是消费贷，利率的差异都不影响还贷成本，与题干论点无关，排除。

D项：指出金融知识水平的提升，会影响人们的借贷意愿，另有他因，削弱题干论点，当选。

故本题选D。

82

. 【答案】B

【解析】 本题考查前提类。

第一步：分析题干论点、论据。

论点：可以通过机器学习算法来获取数据。

论据：面对面或电话访谈的调查方式需要更高的资金和人力成本，由于受到各种外界因素的影响，很多国家和地区无法及时获得有关粮食安全的基本数据。

第二步：分析选项，确定答案。

A项：指出机器学习算法的特点，不明确能否通过机器学习算法来获取有关粮食安全的数据，不是题干论点成立的前提，排除。

B项：指出机器学习算法可以根据影响粮食生产的主要因素进行预测，且预测准确度较高，说明可以通过机器学习算法来获取有关粮食安全的数据，在论点与论据之间搭桥，是题干论点成立的前提，当选。

C项：指出机器学习算法可询问大型数据集，不明确能否通过机器学习算法来获取有关粮食安全的数据，不是题干论点成立的前提，排除。

D项：指出威胁粮食安全的因素从未消失，与题干论点无关，排除。

故本题选B。

83

. 【答案】B

【解析】 本题考查加强类。

第一步：分析题干论点、论据。

论点：亲戚关系的淡化并不必然意味着亲缘关系网络的瓦解。

论据：无。

第二步：分析选项，确定答案。

A项：指出亲缘的联结在未来可能有不同的形式，但人情基底还会嵌于中国社会文化之中，说明亲戚关系的淡化并不意味着亲缘关系网络的瓦解，支持题干论点，排除。

B项：指出互联网深刻改变了人类交往方式和生活方式，年轻人可以通过网络寻找到志趣相投的心理群体获得情感支持，与题干论点无关，无法支持题干论点，当选。

C项：中国传统文化仍然渗透于社会教养方式、社会行为规范之中，人情文化仍有相当的影响力，说明

亲戚关系的淡化并不意味着亲缘关系网络的瓦解，支持题干论点，排除。

D项：指出年轻人在组建了自己的家庭、有了自己的子女之后，对于亲情牵绊会有更深的感悟，说明亲戚关系的淡化并不意味着亲缘关系网络的瓦解，支持题干论点，排除。

故本题选B。

84

.【答案】D

【解析】 本题考查翻译推理。

第一步：翻译题干信息。①引进高层次科研人才且投入充足的科研经费→研究院的科研实力得到显著提升；②引进到高层次科研人才→对现行的科研人才晋升制度进行改革；③某研究院科研实力没有得到显著提升。③否定①的后件，可以推出否定前件，即④该研究院没有引进高层次科研人才或没有投入充足的科研经费。

第二步：分析选项，确定答案。

A、B项：根据④无法判断“没有引进高层次人才”的真假，因此无法判断是否有对科研人才晋升制度改革以及改革是否成功，无法判断真假，均排除。

C项：翻译为：该研究院没有获得充足的科研经费∧没有引进高层次科研人才，是④的一种情况，无法判断真假，排除。

D项：翻译为：没有引进高层次科研人才或没有投入充足的科研经费，与④的说法一致，一定为真，可以判断真假，当选。

故本题选D。

85

.【答案】A

【解析】 本题考查翻译推理。

第一步：翻译题干信息。进行工程隐蔽或下道工序的施工→经项目监理机构进行检查验收。

第二步：分析选项，确定答案。

A项：翻译为经过项目监理机构的检查验收→进行工程隐蔽或下道工序的施工，与题干推出关系相反，无法推出，当选。

B项：翻译为进行工程隐蔽或下道工序的施工→经过项目监理机构的检查验收，与题干推出关系一致，可以推出，排除。

C项：翻译为进行工程隐蔽或下道工序的施工→经过项目监理机构的检查验收，与题干推出关系一致，可以推出，排除。

D项：翻译为进行工程隐蔽或下道工序的施工→经过项目监理机构的检查验收，与题干推出关系一致，可以推出，排除。

故本题选A。

86

.【答案】B

【解析】 本题考查智力推理。

第一步：整理题干信息。①陈不负责进度汇报且不负责整理资料；②王不负责进度汇报且不负责组成文稿；③李不负责整理资料且不负责组成文稿；④张不负责组成文稿且不负责进度汇报；⑤王不负责整理资料→李不负责进度汇报。

第二步：分析题干信息，确定答案。由①②④可知，陈、王、张均不负责进度汇报，因此李负责进度汇报，否定⑤的后件，可以推出否定前件，即王负责整理资料。又根据④张不负责组成文稿，则张负责收集资料。

故本题选B。

87

.【答案】C

【解析】本题考查智力推理。

第一步：整理题干信息。①¬乙工“旦”→甲工“生”；②丙工“生”或甲工“生”；③¬丁工“净”→¬乙工“旦”；④¬甲工“丑”或丁工“净”。

第二步：分析题干信息，确定答案。

根据②可知，要想得到“丙工‘生’”，则甲不工“生”。根据①可知，若乙不工“旦”，则甲工“生”，则乙要工“旦”。根据③可知，若丁不工“净”，则乙不工“旦”，则丁要工“净”。根据“每位只工‘生’‘旦’‘净’‘丑’四个行当中的一个行当”，因此甲要工“丑”。

故本题选C。

88

.【答案】B

【解析】本题考查加强类。

第一步：分析题干论点、论据。

论点：人吃饱之后，倾向于变得更保守、更不愿冒险。

论据：进食后，随着体内控制食欲的激素水平发生变化，食欲降低，财务方面的风险偏好也相应降低了。

第二步：分析选项，确定答案。

A项：指出女性月经期激素波动会对试验结果造成影响，但本次实验中选取的对象为男性，主体不一致，无法支持题干论点，排除。

B项：指出研究人员是通过测量志愿者体内的激素分泌情况而不是通过口头询问来判断饥饿对人的影响，排除了个人主观因素对实验结果的影响，增强了实验结论的真实性，能够支持题干论点，当选。

C项：指出有的志愿者不喜欢吃这些“统一的食物”，但是不得不吃，与题干论点无关，无法支持题干论点，排除。

D项：指出摄入食物后，食物会逐渐转变为脂肪，进而为机体提供能量，与题干论点无关，无法支持题干论点，排除。

故本题选B。

89

.【答案】D

【解析】本题考查结论类。

第一步：阅读题干，判断材料类型。本题为结论类题目，仔细阅读材料信息。

第二步：分析选项，确定答案。

A项：由材料中“人吃饱之后，倾向于变得更保守、更不愿冒险”可知，甲研究团队开展实验的18名志愿者在吃饭前比吃饭后更倾向于冒险，说法为真，排除。

B项：由题干中“人们在饥饿状态下更倾向于做出和自己喜好、性格相反的决策”可知，总是不能相信自己判断是否正确的小明在吃饭后能够作出决定，说法为真，排除。

C项：题干未提及乙研究团队志愿者具体的性格特征，选项为“可能有性格保守的人和性格激进的人”，说法不一定为假，排除。

D项：由题干中“人们在饥饿状态下更倾向于做出和自己喜好、性格相反的决策”可知，小华害怕坐过山车，但却和朋友坐了过山车，说明小华此时处于饥饿状态下，说法必定为假，当选。

故本题选D。

90

.【答案】A

【解析】辨析四个成语的意思：“源远流长”比喻历史悠久，根底深厚；“代代相传”指一代接一代地相继传下去；“历久弥新”是指一样东西不因时间而变旧，变腐，反而更加有活力，更显价值，比新的还要好；“积厚流光”指积累的功业越深厚，则流传给后人的恩德越广。此处讲大量出土的文物表明了“物勒工名”这一手工业管理制度有着悠久的历史，“源远流长”最符合语意。“物勒工名”是手工业管理制度，并非功业，且与“继承”无关，更无与当代价值进行比较，其他三项均不符合语意。

故本题选A。

91

.【答案】D

【解析】A项相符，定位至第9段，由“春秋战国时期，……在这种形势下，‘物勒工名’制度的产生便是顺理成章的事了”可知，“物勒工名”制度出现在春秋战国时期。

B项相符，定位至第4段，由“汉承秦制，‘物勒工名’制度的实施日臻完备”可知，“物勒工名”制度在汉代已经相当成熟。

C项相符，定位至第3段，由“秦朝实现了国家统一，‘物勒工名’制度也随之被进一步强化，不仅在实践中加强考核，在法律上也得以强化”可知，“物勒工名”制度在秦代以法定的形式固定下来。

D项不符，定位至第5段，由“唐朝在承袭前代‘物勒工名’制度的基础上，对该制度进行了丰富和发展”可知，文段仅表明“物勒工名”制度在唐代得到了进一步的发展，“最为规范”无从体现。

故本题选D。

92

.【答案】C

【解析】题干中的古文意为“车轮圆不圆，辐与牙相交处是不是直角，上下车辐是否成一条直线……”，这表明在追求产品质量的过程中，工匠们逐渐形成了精益求精的意识。

故本题选C。

93

.【答案】B

【解析】定位至文章第6~10段，该部分分段论述“物勒工名”制度产生并长期延续的原因分别为：战争时代，各国对武器装备的质量要求；社会分工的进一步细化；商品经济发展的背景下，手工业者提升竞争优势的需要。B项“专制主义中央集权的加强”不属于“物勒工名”产生并延续的原因。

故本题选B。

94

.【答案】D

【解析】分析文章论述结构：第1段指出何为“物勒工名”以及其起源，第2~5段论述“物勒工名”制度的发展历史，第6~10段论述“物勒工名”制度得以长期延续的原因，综上，D项作为标题最合适，最能概括原文。

A、C项仅为文段部分内容，B项文段并未提及。

故本题选D。

95

.【答案】B

【解析】这段文字主要讲对虚构文学作品“诲淫诲盗”的道德审判长期存在于人类社会，是对②中“《西厢记》《包法利夫人》”等例证内容的总结，且衔接第3段首句关于《水浒传》是否“诲淫诲盗”的发问，最适合放在②处。

故本题选B。

96

.【答案】C

【解析】A项符合，定位至第3段，由“《水浒传》这样的书是否‘诲淫诲盗’，其背后是一个阅读观的问题”，加之后文对机械阅读观的论述表明，《水浒传》的争议体现了截然不同的阅读观。

B项相符，定位至第4段，由“读者……还可以在和作者叙述立场的分歧中，了解古今价值观的异同，批判性地看待书本”可知，立场不同反向体现读者不同的价值观，培养批判性思维。

C项不符，定位至第5段，由“如果认为阅读了名家好书，就能让阅读者从此脱胎换骨，这也是夸大了阅读的教育功效——它并没有那么神奇”可知，阅读好书并非能让阅读者脱胎换骨。

D项相符，定位至第6段，由“摆脱对于阅读的某种‘误读’，认清阅读在阅读者身上起到的教育功效有限”可知，阅读对读者的教育功效是有限的。

故本题选C。

97

.【答案】D

【解析】A项已提及，由文章第5段可知，作者认为阅读经典作品可以传承经典作品中的价值。

B项已提及，由文章第4段可知，作者认为阅读可以使情感得到激荡，思考其中的正义与功过，培养批判思维。

C项已提及，由文章第6段可知，阅读对于身心健康有着立竿见影的作用，并通过一组实验对照，说明阅读可以减轻压力。

D项“结识朋友”文段未提及。

故本题选D。

98

.【答案】B

【解析】定位至第3段。文段讲阅读具有教育功效，但这并不是机械的教育过程。如果一个人读的书里有什么样的人，他就会变成什么样，那么书本中对不道德行为的描述，必定会将读者变得不道德。在这种机械的阅读观下，阅读会是一件极为可怕的事。可见，“机械阅读观”指的是过分夸大阅读的教育功效，认为一个人读什么样的书，就会变成什么样的人，B项正确。

故本题选B。

99

.【答案】A

【解析】分析文章论述结构：第1段以《水浒传》被举报事件作为背景引出关于阅读的讨论，第2~4段指出对虚构文学作品“诲淫诲盗”道德审判的背后，体现“阅读观”的问题，并通过正反论证，说明正确的阅读观能带给读者心智的成长。接着第5~6段具体介绍如何摆脱“误读”，要认清阅读有限的教育功能。第7段呼应前文，再次强调正确的“阅读观”会带给青少年宝贵的体验。故文段整体围绕“阅读观”来论述，重在强调需建立正确的“阅读观”，摆脱错误观念，避免“误读”，A项最能反映文段主旨。

B项“读本选择”即对于读物的选择，而文段重在强调树立正确的“阅读观念”，与文段主旨不符；C项“教育功效不应被夸大”仅对应第6段，无法概括全文；D项“道德审判”仅对应第2、3段，且“虚构文学”非文段论述主体。

故本题选A。